

2026（令和8）年度

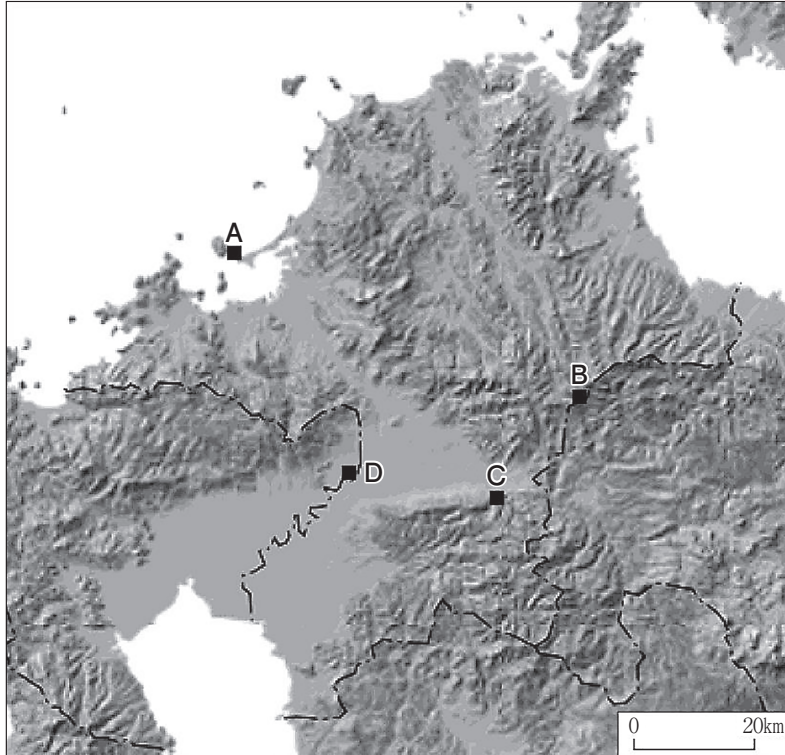
2日〔**〕

地理歴史（地理）

注 意

1. 監督者の指示があるまでは、問題を見ないこと。
2. 問題は声を出して読まないこと。
3. 問題は36ページ、**①**、**②**、**③**、**④**の4題から成っている。
4. 問題や解答用紙に落丁、乱丁、汚損あるいは印刷不鮮明の箇所などがあれば、手をあげて監督者に申し出ること。内容に関する質問は受けつけない。
5. 解答は必ず**黒色鉛筆**を使用し、**解答用紙**に記入すること。
6. すべての解答は、それぞれの解答欄の記号に**マーク**すること。
7. 訂正箇所は、消しゴムで**完全に消す**こと。
8. 解答に関係のない符号（? ✓など）や文字は記入しないこと。
9. 解答用紙を**折ったり汚したり**しないこと。

- 1 地図とその活用に関して、次の図1に示した福岡県を対象地域とする以下の問に答えよ。



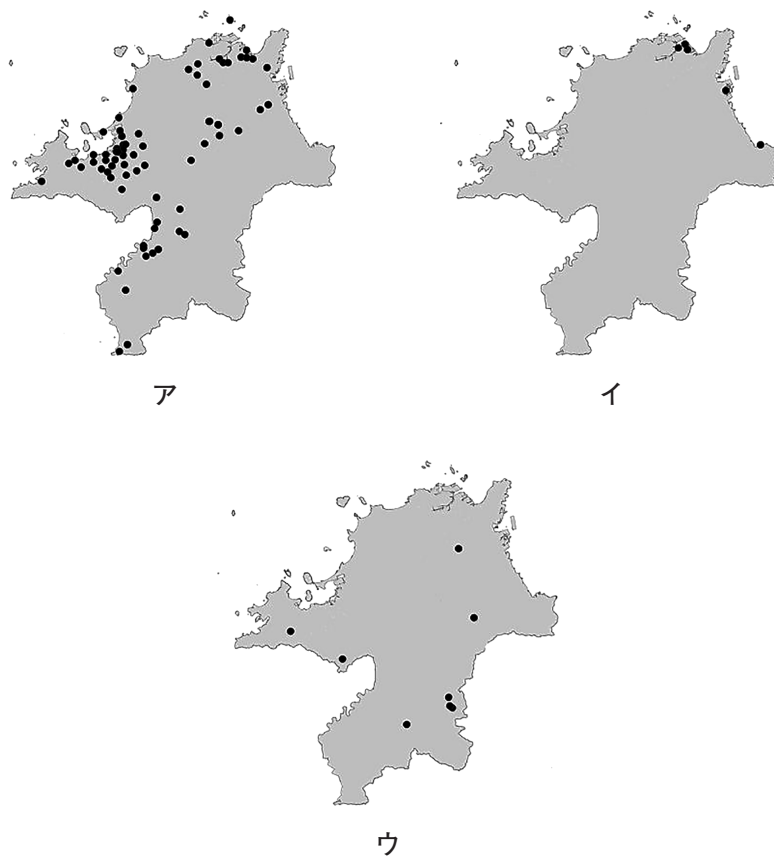
(地理院地図 Vector により作成)

図1

問1 図1は、福岡県とその周辺地域に分布する地形を、陰影をつけて示したものである。図1について述べた文として**適切でないもの**を、次の①～④の中から1つ選べ。

- ① A地点から北東に延びる海岸は、沈水作用を受けて形成された。
- ② B地点から北北西に向かって、約50kmにおよぶ谷が延びている。
- ③ C地点の西に分布する山地は、断層運動によって形成された。
- ④ D地点の南西に分布する県の境界に沿って、河川が沖積平野を蛇行している。

問2 次の図2は、福岡県内の発電施設の分布を示したものであり、図2中のア～ウは、火力、水力、太陽光のいずれかの発電施設である。発電施設の種類とア～ウとの正しい組合せを、下の①～⑥の中から1つ選べ。



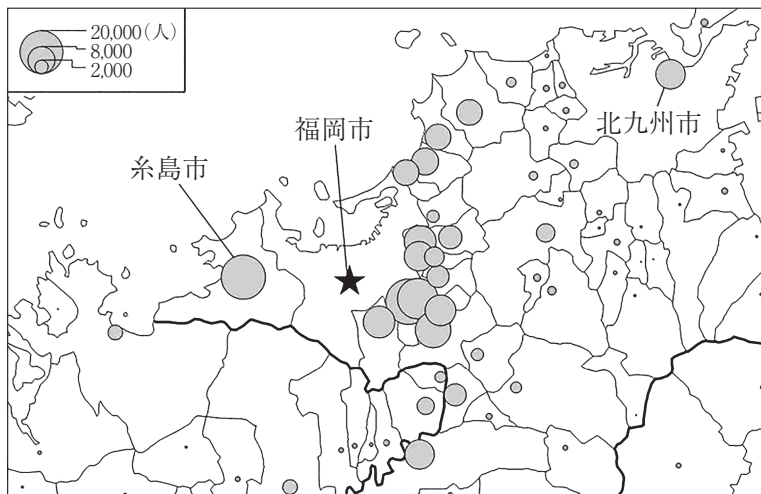
統計年次は2013年度。

(国土数値情報により作成)

図2

	①	②	③	④	⑤	⑥
火力	ア	ア	イ	イ	ウ	ウ
水力	イ	ウ	ア	ウ	ア	イ
太陽光	ウ	イ	ウ	ア	イ	ア

問3 福岡市は、県庁が所在するとともに、中心性の高い大都市で、多くの通勤・通学者が流入する。次の図3は、周辺市町村における福岡市への通勤・通学者数を示したものである。後の図4も参考にして、図3について述べた下の文章中の空欄カとキに当てはまる語句の正しい組合せを、後の①～④の中から1つ選べ。



統計年次は2020年。

(国勢調査により作成)

図3

福岡市へは隣接する自治体のほか、**カ**自治体からの通勤・通学者も多くなっており、福岡市よりも早く政令指定都市となった北九州市からも9,000人以上が通勤・通学している。

ただし、都市圏の測定では、それぞれの市町村に居住する15歳以上の就業者・通学者総数に占める中心市への通勤・通学者の割合を指標として用いることが多い。そこで福岡市への通勤・通学者の割合を求めると、隣接する糸島市の方が、北九州市よりも**キ**なっている。

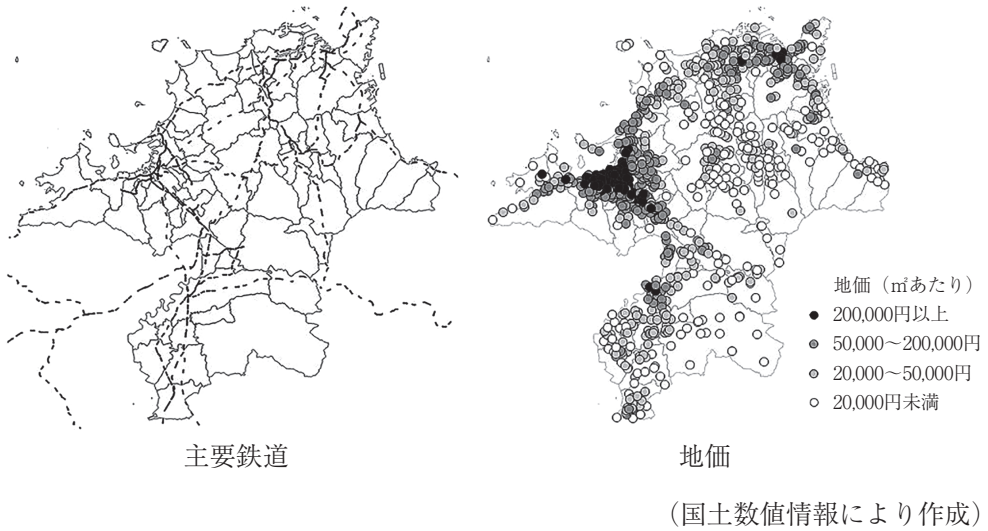
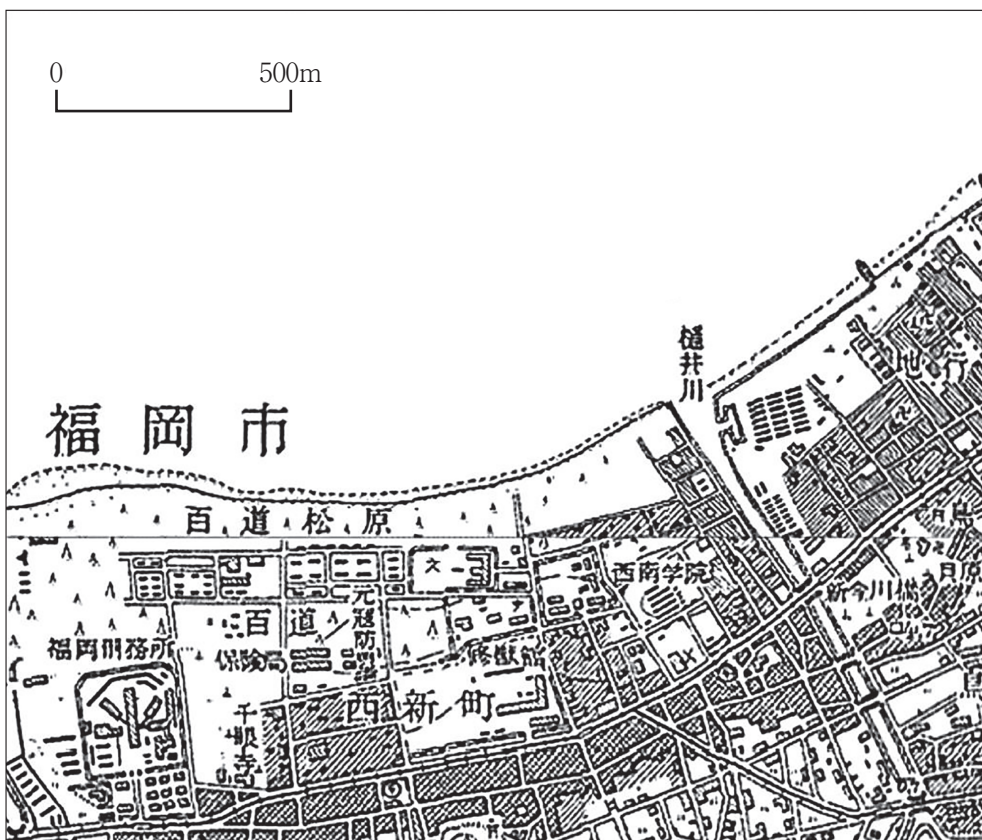


図 4

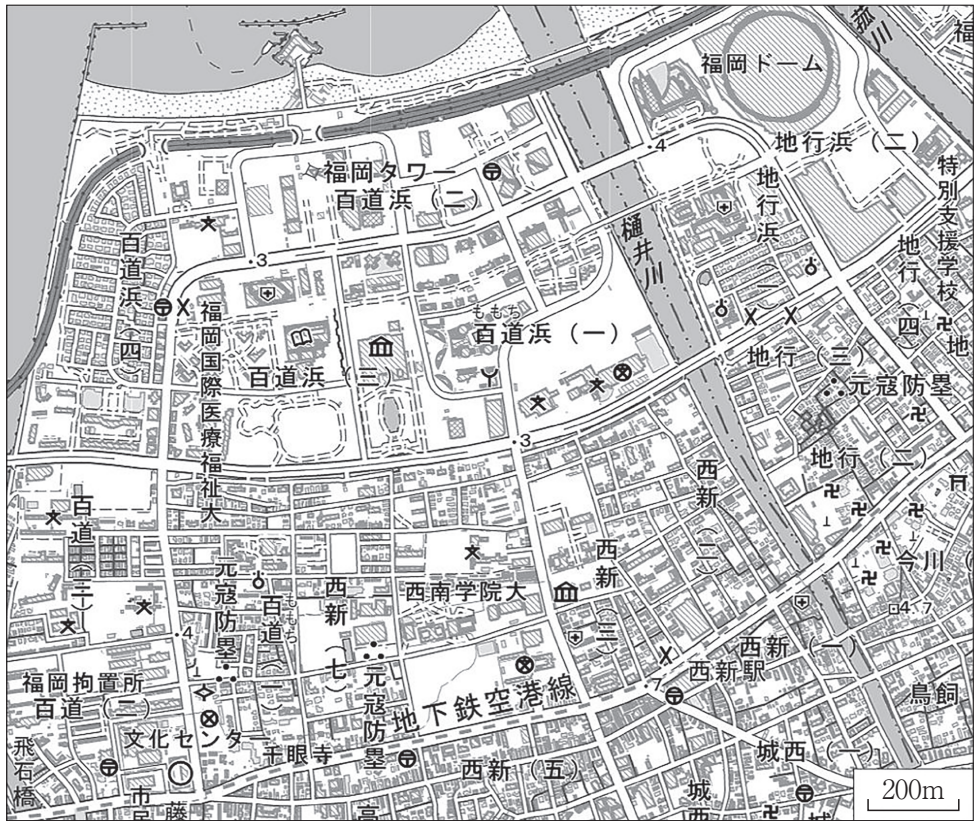
	力	キ
①	主要鉄道の沿線に位置する	高 く
②	主要鉄道の沿線に位置する	低 く
③	住宅の取得費用が安価な	高 く
④	住宅の取得費用が安価な	低 く

問4 次の図5は、1952年に発行された福岡市の一部地域を示した地形図であり、後の図6は、同じ範囲を示した地理院地図である。図5と図6を比較して読み取った内容について述べた文として最も適切なものを、後の①～④の中から1つ選べ。



(国土地理院発行による)

図5

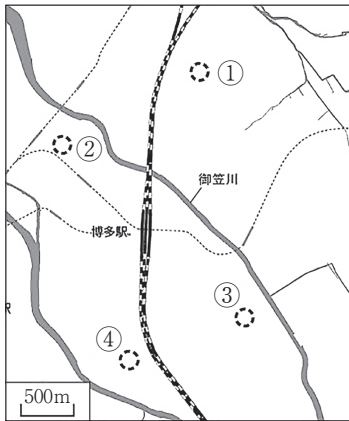


(地理院地図により作成)

図6

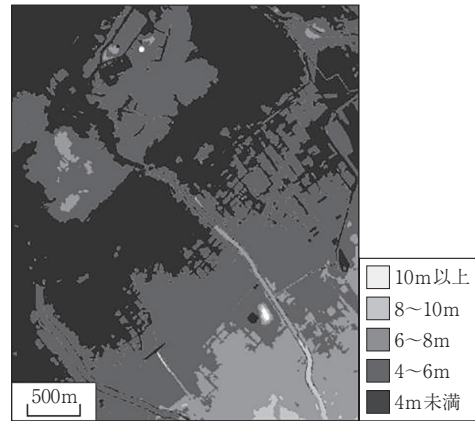
- ① 図5中の「千眼寺」が移転した跡地に、区役所が設置された。
- ② 図6中の地下鉄空港線が通過する道路には、かつては路面軌道が整備されていた。
- ③ 図6中の「元寇防塁」跡はいずれも、図5では当時の海岸線に位置していた。
- ④ 図6中の「福岡タワー」は、干拓によって造成された土地に建てられている。

問5 福岡市では、1999年6月に御笠川が氾濫して、博多駅周辺が広く浸水し、犠牲者もみられた。そこで福岡市では、御笠川の氾濫に備えて遊水地の整備が行われた。次の図8は、図7に示した博多駅周辺地域の標高分布を、図9は、同じ範囲の人口分布を示したものである。図8と図9を参照し、御笠川の氾濫に備えて遊水地として整備された場所として最も適切なものを、図7中の①～④の中から1つ選べ。




(地理院地図 Vector により作成)

図7



(地理院地図 Vector により作成)

図8

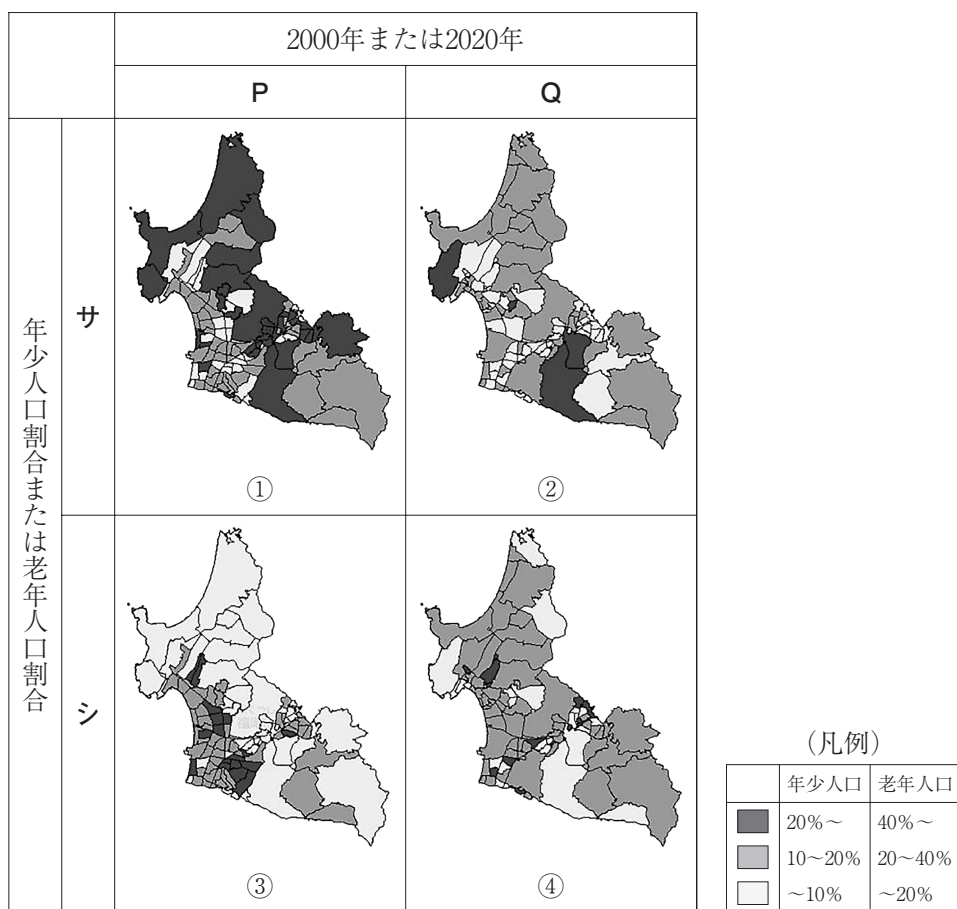


(国勢調査により作成)

図9

問6 次の図10は、福岡市の北東約20kmに位置する福津市*における町丁別の年齢別人口の割合を示したものであり、図10中のPとQは2000年と2020年のいずれか、サとシは年少人口（15歳未満人口）割合と老年人口（65歳以上人口）割合のいずれかである。2020年の年少人口割合に該当するものを、図10中の①～④の中から1つ選べ。

*2000年は福間町と津屋崎町。



(国勢調査により作成)

図10


問7 次の写真1中のタ～ツは、後の図11中のX～Zのいずれかの地点で矢印の方向を撮影したものである。タ～ツとX～Zとの正しい組合せを、後の①～⑥の中から1つ選べ。



タ

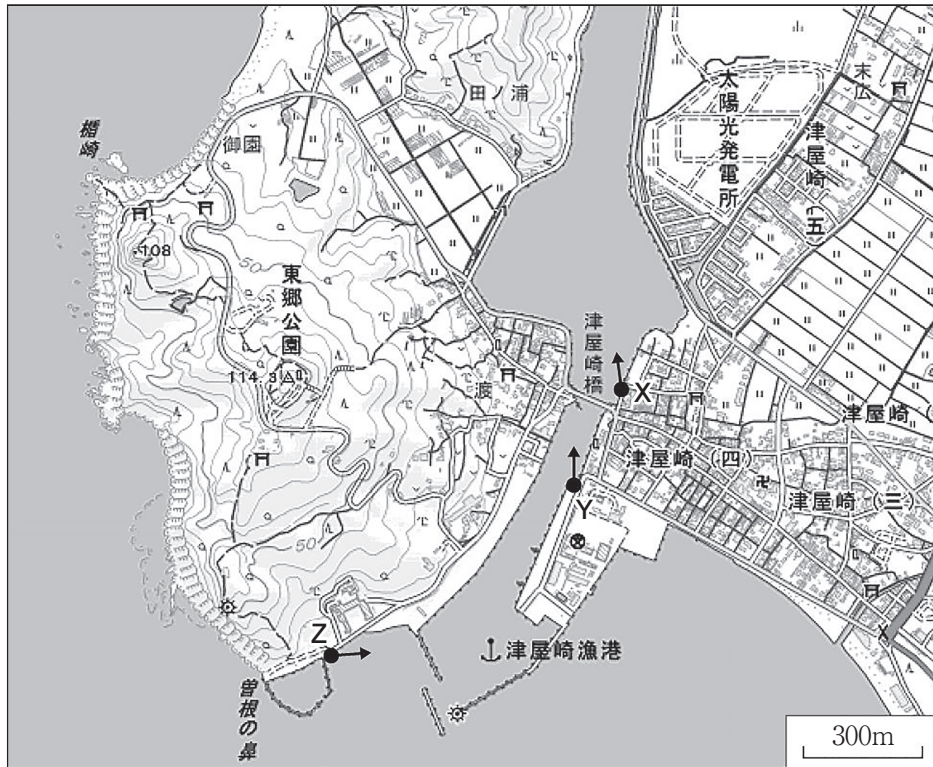


チ



ツ

写真1



(地理院地図により作成)

図11

	①	②	③	④	⑤	⑥
夕	X	X	Y	Y	Z	Z
チ	Y	Z	X	Z	X	Y
ツ	Z	Y	Z	X	Y	X

2 消費と余暇に関して、以下の問に答えよ。

A 世界と日本の第3次産業について、以下の問（問1～3）に答えよ。

問1 次の表1は、日本の小売業の業態別の年間商品販売額を示したものであり、表1中のア～ウは、コンビニエンスストア、総合スーパー、百貨店のいずれかである。業態名とア～ウとの正しい組合せを、下の①～⑥の中から1つ選べ。

表1

	年間商品販売額（百万円）		
	1事業所当たり	従業者1人当たり	売場面積1㎡当たり
ア	25,244	73.47	1.03
イ	4,256	22.61	0.48
ウ	185	12.05	1.49
専門店	100	20.68	1.46

統計年次は2014年。

（『データブック オブ・ザ・ワールド2025年版』により作成）

	①	②	③	④	⑤	⑥
コンビニエンスストア	ア	ア	イ	イ	ウ	ウ
総合スーパー	イ	ウ	ア	ウ	ア	イ
百貨店	ウ	イ	ウ	ア	イ	ア

問2 近年の日本の小売業の立地について述べた次の文章中の空欄カとキに当てはまる語句の正しい組合せを、下の①～④の中から1つ選べ。

コンビニエンスストアは、多くの店舗で カ が導入されており、効率的な経営が行われるため、住宅地など商圏が狭い場所へも拡大してきた。一方、1990年代に日本に出現したアウトレットモールは、広い範囲から顧客を集めるために、キ などに立地する傾向がある。

	カ	キ
①	ジャストインタイム方式	大都市のターミナル駅付近や中心部
②	ジャストインタイム方式	高速道路のインターチェンジ付近
③	POSシステム	大都市のターミナル駅付近や中心部
④	POSシステム	高速道路のインターチェンジ付近

問3 次の表2中の①～④は、アメリカ合衆国、イギリス、韓国、日本のいずれかについて、消費支出に占めるいくつかの項目の割合を示したものである。アメリカ合衆国に該当するものを、表2中の①～④の中から1つ選べ。

表2

(単位：%)

	医療・保健	教育	食料・飲料・たばこ
①	19.0	2.6	9.0
②	5.2	6.2	16.5
③	4.0	1.8	18.5
④	1.6	1.4	12.5

統計年次は2005～2022年のいずれか。

(『データブック オブ・ザ・ワールド2025年版』により作成)

B 余暇の拡大と観光について、以下の問（問4～8）に答えよ。

問4 次の表3中の①～④は、アメリカ合衆国、スウェーデン、タイ、日本のいずれかにおける雇用者の週当たり平均労働時間を示したものである。スウェーデンに該当するものを、表3中の①～④の中から1つ選べ。

表3

(単位：時間)

	全 体	男	女
①	41.8	41.9	41.7
②	36.8	41.4	31.2
③	36.4	38.4	34.1
④	29.3	31.4	26.8

統計年次は2022年。

(『世界国勢図会 2024/25』により作成)

問5 世界遺産の登録地には多くの観光客が訪れる。次の図1は、日本のある世界文化遺産に登録された8エリアを示したものである。図1が示す世界文化遺産の内容について述べた文として最も適切なものを、下の①～④の中から1つ選べ。

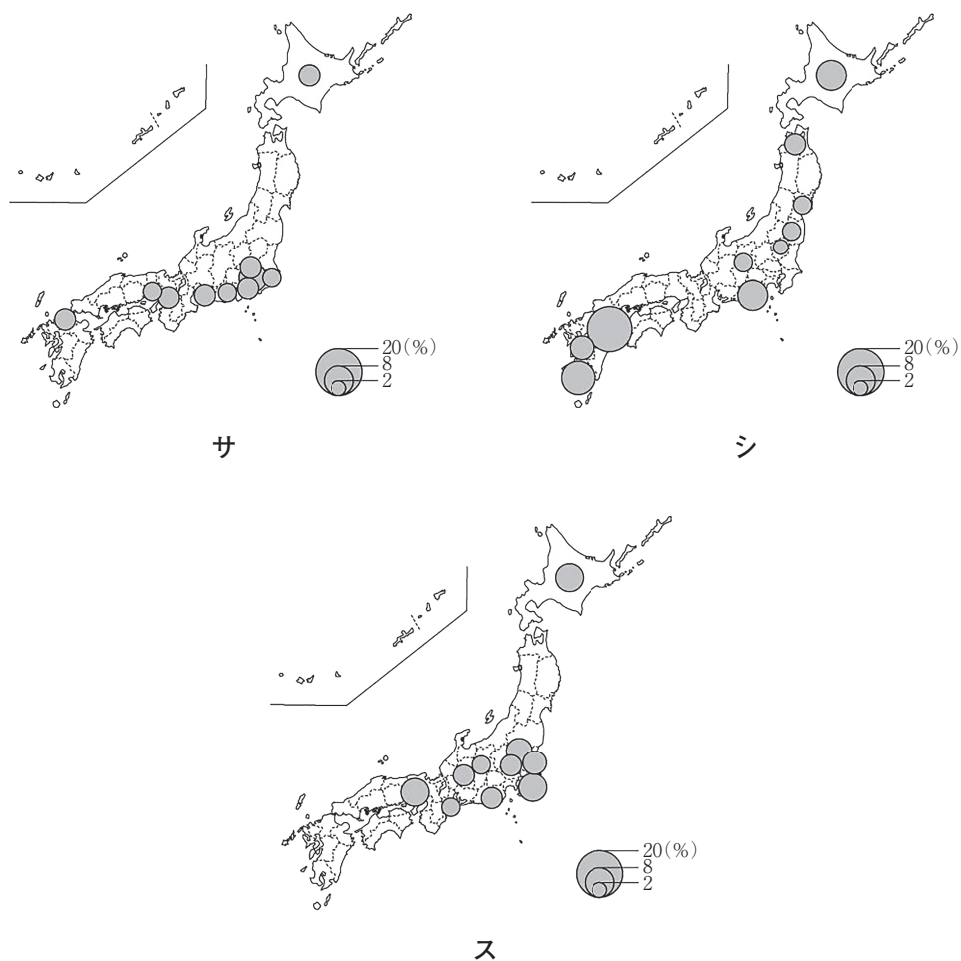


図1

- ① 採集・漁労・狩猟を基盤としつつ、土器を用いて定住を開始した人々の暮らしや精神文化を伝える遺産群。
- ② 4世紀後半から5世紀後半にかけて、当時の政治・文化の中心地に築造された多数の古墳群。
- ③ 特有の地形や気候、植生に根ざして生まれた信仰を背景に、実践されてきた山岳修行に関連する遺産群。
- ④ 重工業分野における西洋の技術が移転された明治期の造船、製鉄・製鋼、石炭産業に関する施設群。

問6 次の図2中のサ～スは、劇場・音楽堂等、源泉数*、ゴルフ場のいずれかの施設数上位10都道府県とその全国比を示したものである。項目名とサ～スとの正しい組合せを、後の①～⑥の中から1つ選べ。

*未利用の源泉を含む。



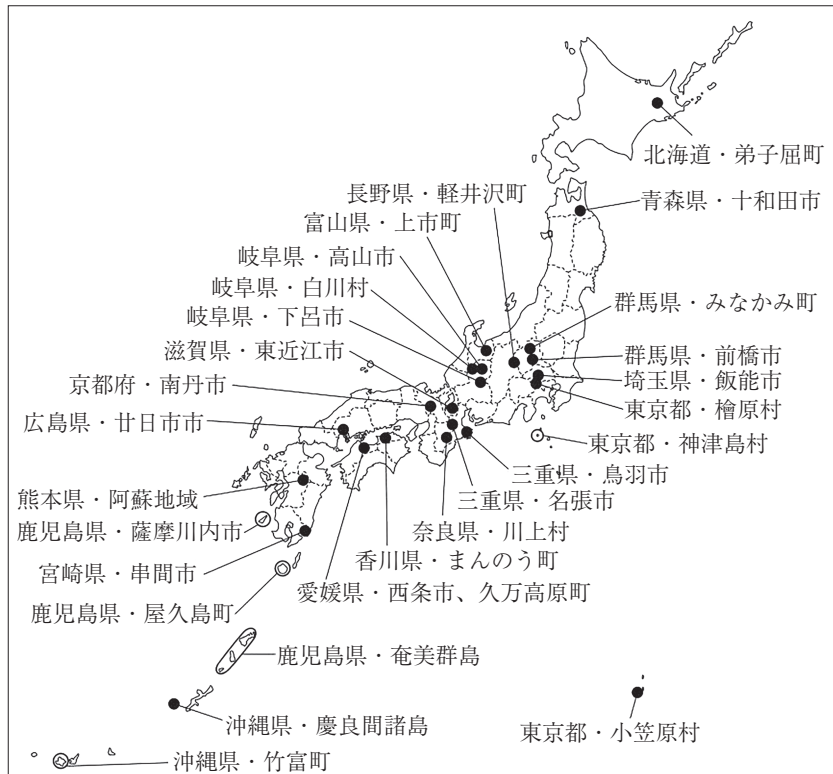
統計年次は、劇場・音楽堂等が2021年10月1日現在、源泉数が2022年度末現在、ゴルフ場が2023年10月31日現在。

(『データでみる県勢 2025』により作成)

図2

	①	②	③	④	⑤	⑥
劇場・音楽堂等	サ	サ	シ	シ	ス	ス
源泉数	シ	ス	サ	ス	サ	シ
ゴルフ場	ス	シ	ス	サ	シ	サ

問7 次の図3は、法律に基づいて設定された、行政や研究者などと協力して、あるツーリズムを推進している地域を示したものである。そのツーリズムの名称として最も適切なものを、下の①～④の中から1つ選べ。



(関係する省庁資料より、2024年5月現在)

図3

- ① エコツーリズム
- ② コンテンツツーリズム
- ③ ダークツーリズム
- ④ メディカルツーリズム

問8 次の文は、フランスの観光地を説明したものである。このうち、コートダジュールに位置する観光地の説明として最も適切なものを、次の①～④の中から1つ選べ。

- ① 観光が主産業であり、芸術家ゴッパンに愛された。
- ② 小島の上に修道院があり、潮の満ち引きで陸とつながる。
- ③ 世界的なワインの産地であり、旧市街は「月の港」として世界遺産に登録されている。
- ④ 古くからの観光保養地であり、国際的な映画祭が開催されている。

C 消費について、以下の問（問9・10）に答えよ。

問9 消費支出のうち、ほかの都道府県で購入する割合が最も高い都道府県を、次の①～④の中から1つ選べ。

- ① 北海道 ② 宮城県 ③ 東京都 ④ 奈良県

問10 近年、日本や欧米では、自宅から生鮮食料品店にアクセスする際の利便性が極端に悪く、自家用車を利用できない高齢者などが多く集まる地域を指してフードデザートとよんでいる。日本においてフードデザートとなる可能性が高いエリアとして**適切でないもの**を、次の①～④の中から1つ選べ。

- ① 駐車場の確保が困難な大都市圏の都心部
- ② 急激に高齢化が進んだ大都市圏郊外の住宅団地
- ③ シャッター街となった地方都市の中心市街地
- ④ 過疎化に伴って小売店が廃業した山村

次のページに進みなさい

3 次の図1に示した南アジアに関して、以下の問に答えよ。




図1

問1 図1中の線Xについて述べた次の文章中の空欄アに当てはまる語句を、下の①～④の中から1つ選べ。


線Xは、東経82.5度の経線を示している。Xを標準時子午線としているインドの時刻は、日本の時刻より **ア** 遅れている。

- ① 4時間半 ② 4時間 ③ 3時間半 ④ 3時間


問2 次の図2中のカ～クは、図1中のA～Cのいずれかの範囲における標高の分布を示したものである。A～Cとカ～クとの正しい組合せを、下の①～⑥の中から1つ選べ。



カ



キ



ク

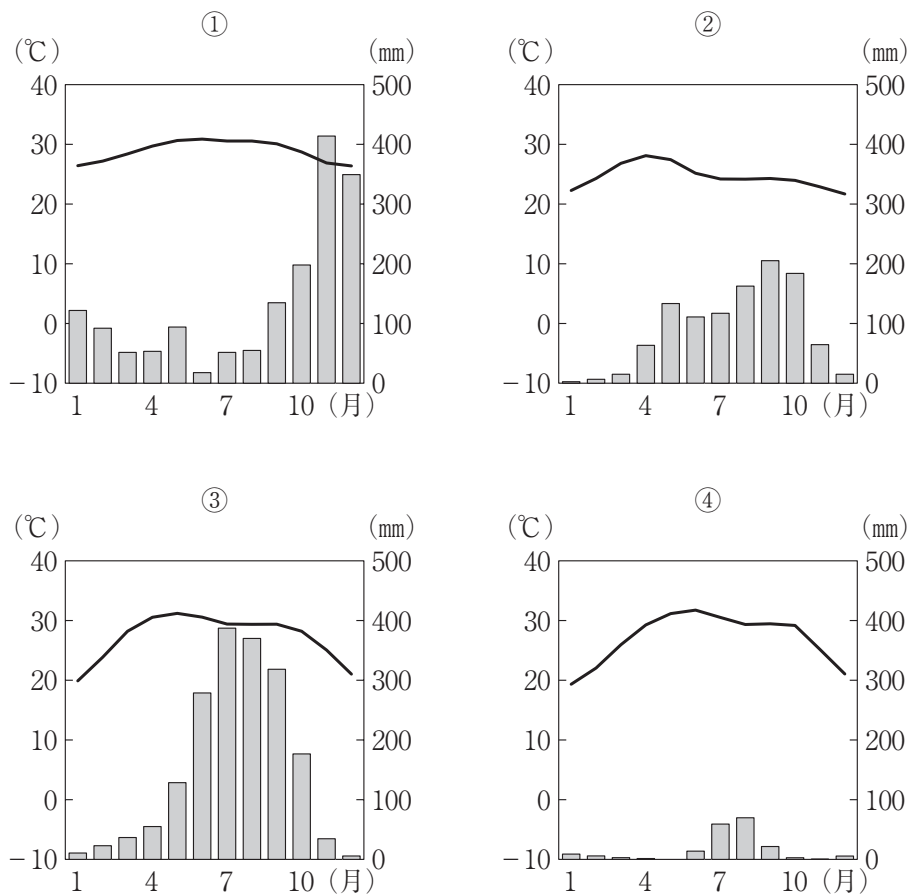
濃色ほど標高が高いことを示している。

(地理院地図により作成)

図2

	①	②	③	④	⑤	⑥
A	カ	カ	キ	キ	ク	ク
B	キ	ク	カ	ク	カ	キ
C	ク	キ	ク	カ	キ	カ

問3 次の図3中の①～④は、図1中のサ～セのいずれかの地点における月平均気温と月降水量を示した雨温図である。サに該当するものを、図3中の①～④の中から1つ選べ。



(気象庁の資料により作成)

図3

問4 図1中のF地方について述べた次の文章中の空欄タとチに当てはまる語句の正しい組合せを、下の①～④の中から1つ選べ。

植民地時代のF地方は、イギリス支配下で藩王による統治が行われていた。独立に際して、藩王が信仰する タ と、住民の多くが信仰する宗教との相違が、F地方の領有をめぐるインドとパキスタンの衝突をもたらした。さらにFの藩王による統治は、 チ 山脈の北東側にも及んだため、インドは中国とも対立することになった。

	①	②	③	④
タ	イスラーム	イスラーム	ヒンドゥー教	ヒンドゥー教
チ	カラコルム	ヒンドゥークシ	カラコルム	ヒンドゥークシ

問5 次のナ～ヌの文は、スリランカ、ネパール、バングラデシュのいずれかにおける宗教の信仰状況について述べたものである。国名とナ～ヌとの正しい組合せを、下の①～⑥の中から1つ選べ。

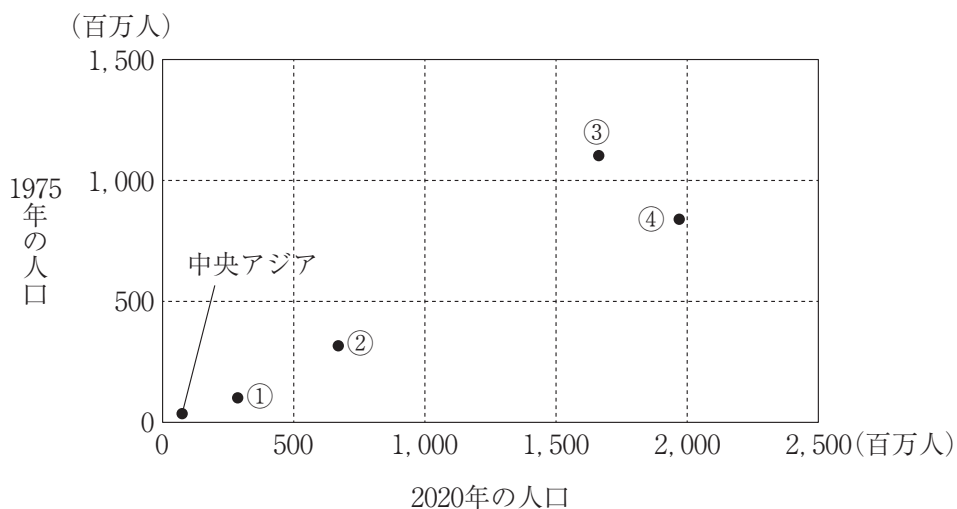
- ナ 仏教徒が大多数を占め、ヒンドゥー教徒がそれに続く。
- ニ ムスリム（イスラム教徒）が大多数を占め、ヒンドゥー教徒がそれに続く。
- ヌ ヒンドゥー教徒が大多数を占め、仏教徒がそれに続く。

	①	②	③	④	⑤	⑥
スリランカ	ナ	ナ	ニ	ニ	ヌ	ヌ
ネパール	ニ	ヌ	ナ	ヌ	ナ	ニ
バングラデシュ	ヌ	ニ	ヌ	ナ	ニ	ナ

問6 経済活動の中心地である人口首位都市とは異なる土地に、首都機能が計画的に配置されている国として**適切でないもの**を、次の①～④の中から1つ選べ。

- ① インド
- ② スリランカ
- ③ パキスタン
- ④ バングラデシュ

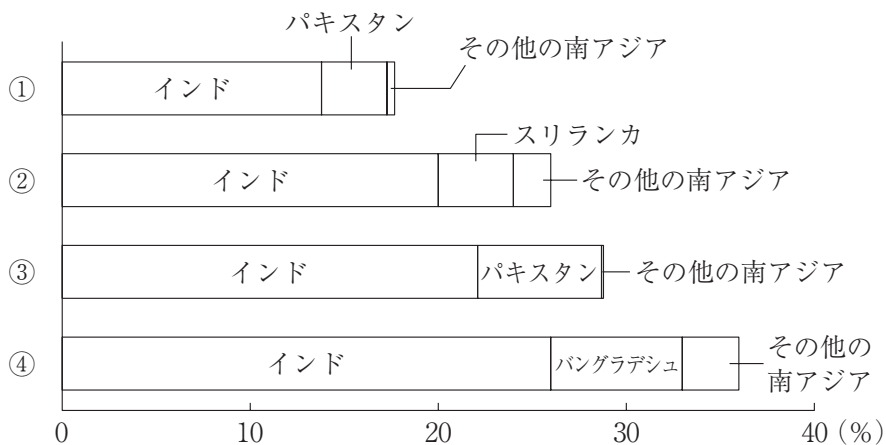
問7 次の図4は、アジアの各地域の1975年と2020年の人口を示したものであり、図4中の①～④は、東南アジア、西アジア、東アジア、南アジアのいずれかである。南アジアに該当するものを、図4中の①～④の中から1つ選べ。



(国立社会保障・人口問題研究所の資料により作成)

図4

問8 次の図5中の①～④は、小麦、米、茶、綿花のいずれかについて、世界の総生産量に占める南アジア諸国の割合を示したものである。綿花に該当するものを、図5中の①～④の中から1つ選べ。



統計年次は2023年。

(FAOSTAT により作成)

図5

問9 現代では、世界各国でインド系住民が暮らしており、現地国の国籍を取得している人も多い。現地国の国籍をもつインド系住民の割合が高い国として適切でないものを、次の①～④の中から1つ選べ。

- ① ガイアナ
- ② サウジアラビア
- ③ シンガポール
- ④ フィジー

問10 次の表1中のP～Rは、インド、スリランカ、パキスタンのいずれかについて、輸出額の多い相手国3か国とその総額に占める割合を示したものである。国名とP～Rとの正しい組合せを、下の①～⑥の中から1つ選べ。

表1

(単位：%)

P		Q		R	
アメリカ合衆国	17.4	アメリカ合衆国	17.6	アメリカ合衆国	23.2
中国	9.5	アラブ首長国連邦	7.7	イギリス	7.1
イギリス	6.9	オランダ	5.4	Q	7.1

統計年次は2023年。

(『データブック オブ・ザ・ワールド2025年版』により作成)

	①	②	③	④	⑤	⑥
インド	P	P	Q	Q	R	R
スリランカ	Q	R	P	R	P	Q
パキスタン	R	Q	R	P	Q	P

次のページに進みなさい

4 産業の国際化に関して、以下の問に答えよ。

A 第1次産業の国際化について、以下の問（問1～3）に答えよ。

問1 農業の国際化について述べた次の文章中の空欄**ア**と**イ**に当てはまる語句の正しい組合せを、下の①～④の中から1つ選べ。

世界の農業には、種子や農業資材の開発・販売、農産物の流通などさまざまな事業を展開している先進国の **ア** が大きくかかわっている。さらに近年は、中国や西アジアの産油国の企業によっても、**イ** やアフリカなどで広大な農地を借り上げたり、買収したりして穀物を生産する農業投資が活発化している。

	①	②	③	④
ア	アグリビジネス	アグリビジネス	ランドラッシュ	ランドラッシュ
イ	北アメリカ	東ヨーロッパ	北アメリカ	東ヨーロッパ

問2 次の表1は、エクアドルとケニアの主な輸出品目と輸出額を示したものである。両国に共通する輸出品目Xについて述べた下の文章中の空欄カとキに当てはまる語句の正しい組合せを、後の①～④の中から1つ選べ。

表1

(単位：百万ドル)

エクアドル		ケニア	
原油	10,835	茶	1,385
魚介類	10,038	X	629
野菜・果実	4,427	野菜・果実	602
石油製品	1,713	石油製品	433
銅 鉱	1,294	衣 類	402
X	1,028	コーヒー豆	324

統計年次は2022年。

(『世界国勢図会 2024/25』により作成)

エクアドルやケニアでは、緯度が低く、日照時間の年変化が小さい利点を生かして、**カ**を中心にXの栽培が成長した。いずれの国からも、Xは主に**キ**を利用して海外市場へ供給されている。

	①	②	③	④
カ	湿潤な低地	湿潤な低地	冷涼な高地	冷涼な高地
キ	航空機	コンテナ船	航空機	コンテナ船

問3 日本では、1970年代以降、遠洋漁業の漁獲量が減少を続け、かわって水産物の輸入量が増加した。次の表2は、日本のある魚種の主な輸入相手国と輸入額に占める割合を示したものである。表2が示す魚種と、Yに当てはまる国名との組合せとして最も適切なものを、下の①～④の中から1つ選べ。

表2

国名	%
Y	58.7
ノルウェー	22.4
ロシア	5.9
アメリカ合衆国	4.3
トルコ	3.3

統計年次は2023年。

(『データブック オブ・ザ・ワールド2025年版』により作成)

	①	②	③	④
魚種	さけ・ます	さけ・ます	まぐろ	まぐろ
Y	インドネシア	チリ	インドネシア	チリ

B 第2次産業の国際化について、以下の問（問4～6）に答えよ。

問4 ヨーロッパ各国から集められた部品を用いて、航空機の組み立て作業が盛んな都市として最も適切なものを、次の図1中の①～④の中から1つ選べ。



図1

問5 主にアメリカ合衆国の企業と連携してICT産業が成長し、「インドのシリコンヴァレー」とよばれる都市として最も適切なものを、次の①～④の中から1つ選べ。

- ① アーメダーバード
- ② ジャムシェドプル
- ③ チェンナイ（マドラス）
- ④ ベンガルール（バンガロール）

問6 グローバル化と国際分業について述べた文として**適切でないもの**を、次の

①～④の中から1つ選べ。

- ① 20世紀初頭から、発展途上国が原料を輸出し、先進国が工業製品を組み立てて輸出する垂直分業が行われてきた。
- ② 先進国間では、高付加価値の工業製品を相互に輸出し合う水平分業が行われてきた。
- ③ 発展途上国間においても、低価格の電気製品や二輪車などを輸出し合う水平分業が行われるようになった。
- ④ 新興工業国では、研究開発部門の発展を背景に、先端技術を用いた商品を先進国に輸出する垂直的分業が盛んになっている。

C 人・物・資本の移動の国際化について、以下の問（問7～12）に答えよ。

問7 次の表3中のタとチは、日本の海運会社が保有する船舶の船籍割合と船員の国籍割合のいずれか、AとBは、パナマとフィリピンのいずれかである。船員の国籍割合とパナマに該当するものの正しい組合せを、下の①～④の中から1つ選べ。

表3

(単位：%)

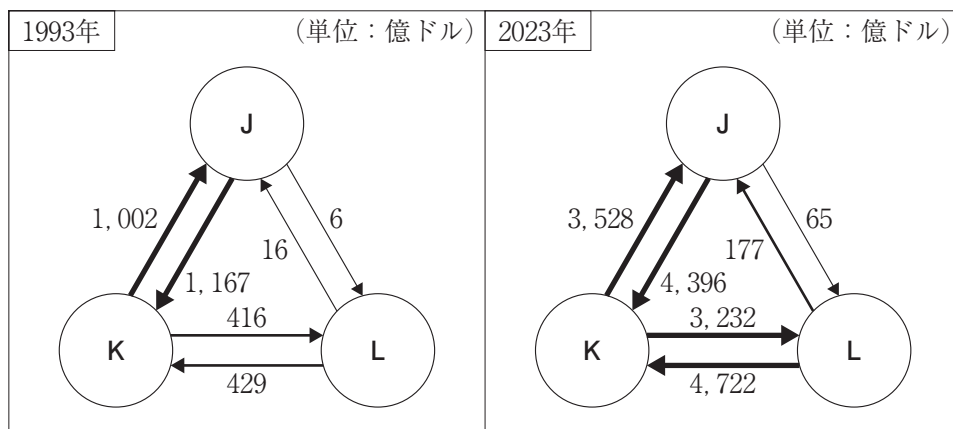
タ		チ	
A	56.4	B	71.5
日本	12.1	インド	7.0
リベリア	7.0	ミャンマー	4.0
マーシャル諸島	5.4	中国	4.0
シンガポール	4.9	ベトナム	3.1

統計年次は、船舶の船籍割合が2020年6月末時点、船員の国籍割合が2018年。

(日本船主協会の資料により作成)

	①	②	③	④
船員の国籍割合	タ	タ	チ	チ
パナマ	A	B	A	B

問 8 次の図 2 中の J～L は、アメリカ合衆国、カナダ、メキシコのいずれかの 1993年と2023年の貿易額を示したものである。国名と J～L との正しい組合せを、下の①～⑥の中から 1 つ選べ。



(UN, Comtrade により作成)

図 2

	①	②	③	④	⑤	⑥
アメリカ合衆国	J	J	K	K	L	L
カナダ	K	L	J	L	J	K
メキシコ	L	K	L	J	K	J

問9 次の表4は、主な国のサービス貿易の収支を示したものであり、表4中の①～④は、イギリス、シンガポール、中国、ロシアのいずれかである。シンガポールに該当するものを、表4中の①～④の中から1つ選べ。

表4

(単位：百万ドル)

	①	②	③	④
金融	74,542	30,068	655	-117
知的財産権等使用料	10,637	-4,357	-31,746	-2,806
輸送	-3,946	13,813	-73,072	-751

統計年次は2023年。

(『世界国勢図会 2024/25』により作成)

問10 次の表5は、日本の業種別の対外直接投資額と投資先を示したものであり、表5中のPとQは鉱業と輸送機械器具のいずれか、ナとニはアメリカ合衆国とASEANのいずれかである。Pとニに該当するものの正しい組合せを、後の①～④の中から1つ選べ。

表5

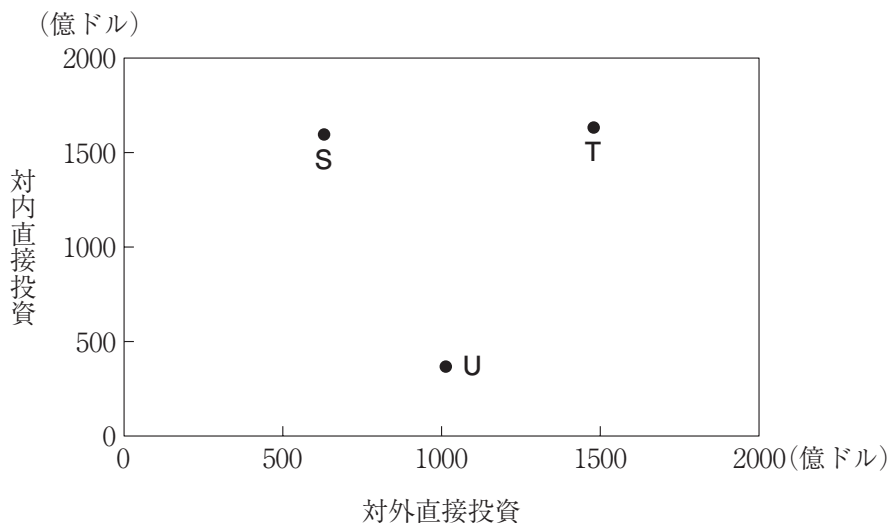
		対外直接投資額 (億円)		
		ナ	EU	ニ
金融・保険業	41,345	15,217	6,909	4,116
P	23,201	2,694	896	273
Q	10,344	755	1,198	2,147
鉄・非鉄・金属	6,514	1,160	869	689

統計年次は2023年。

(『データブック オブ・ザ・ワールド2025年版』により作成)

	①	②	③	④
P	鉱業	鉱業	輸送機械器具	輸送機械器具
ニ	アメリカ合衆国	ASEAN	アメリカ合衆国	ASEAN

問11 次の図3中のS～Uは、シンガポール、中国、ドイツのいずれかの対外直接投資額と対内直接投資額を示したものである。国名とS～Uとの正しい組合せを、下の①～⑥の中から1つ選べ。



統計年次は2023年。

(『データブック オブ・ザ・ワールド2025年版』により作成)

図3

	①	②	③	④	⑤	⑥
シンガポール	S	S	T	T	U	U
中国	T	U	S	U	S	T
ドイツ	U	T	U	S	T	S

問12 近年、日本で就業する外国人が増加している。次の図4は、日本における国籍別の在留外国人数の推移を示したものであり、図4中のハ～ヘは、中国、フィリピン、ブラジル、ベトナムのいずれかである。ヒに該当する国を、下の①～④の中から1つ選べ。

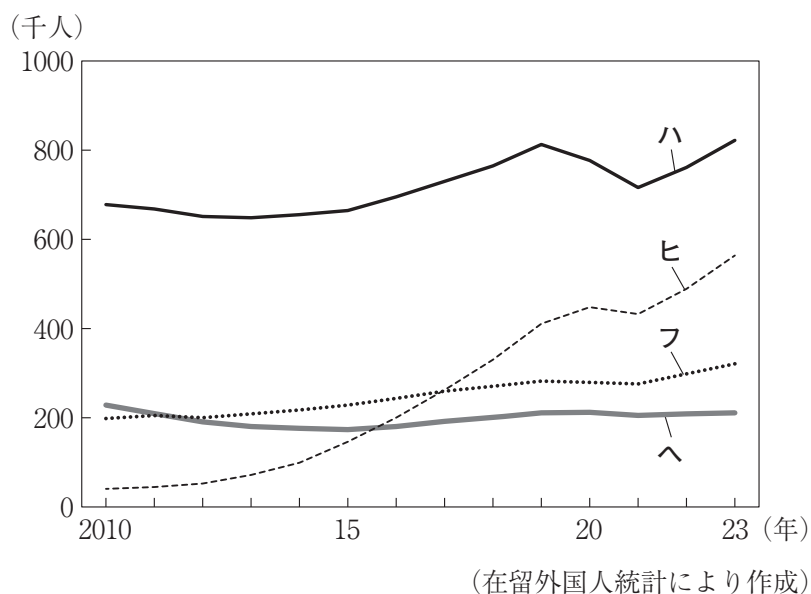


図4

- | | |
|--------|---------|
| ① 中国 | ② フィリピン |
| ③ ブラジル | ④ ベトナム |

1	問 1	● ② ③ ④
	問 2	① ② ③ ● ⑤ ⑥
	問 3	● ② ③ ④
	問 4	① ● ③ ④
	問 5	① ② ● ④
	問 6	① ② ● ④
	問 7	① ● ③ ④ ⑤ ⑥

21点

2	問 1	① ② ③ ④ ⑤ ●
	問 2	① ② ③ ●
	問 3	● ② ③ ④
	問 4	① ② ③ ●
	問 5	① ② ③ ●
	問 6	● ② ③ ④ ⑤ ⑥
	問 7	● ② ③ ④
	問 8	① ② ③ ●
	問 9	① ② ③ ●
	問 10	● ② ③ ④

24点

3	問 1	① ② ● ④
	問 2	① ● ③ ④ ⑤ ⑥
	問 3	① ② ③ ●
	問 4	① ② ● ④
	問 5	① ● ③ ④ ⑤ ⑥
	問 6	① ② ③ ●
	問 7	① ② ③ ●
	問 8	① ② ● ④
	問 9	① ● ③ ④
	問 10	① ② ③ ● ⑤ ⑥

26点

4	問 1	① ● ③ ④
	問 2	① ② ● ④
	問 3	① ● ③ ④
	問 4	● ② ③ ④
	問 5	① ② ③ ●
	問 6	① ② ③ ●
	問 7	① ② ● ④
	問 8	① ② ● ④ ⑤ ⑥
	問 9	① ● ③ ④
	問 10	① ● ③ ④
	問 11	● ② ③ ④ ⑤ ⑥
	問 12	① ② ③ ●

29点