

2026（令和8）年度

1日[*]

公 民（政治・経済）

注 意

1. 監督者の指示があるまでは、問題を見ないこと。
2. 問題は声を出して読まないこと。
3. 問題は18ページ、Ⅰ、Ⅱ、Ⅲ、Ⅳの4題からなっている。
4. 問題や解答用紙に落丁、乱丁、汚損あるいは印刷不鮮明の箇所などがあれば、手をあげて監督者に申し出ること。ただし、内容に関する質問は受けつけない。
5. 解答は必ず黒色鉛筆を使用し、解答用紙に記入すること。
6. 解答はマーク・シートと記述式に分かれているので、注意すること。
7. 訂正箇所は、消しゴムで完全に消すこと。
8. 解答に関係のない符号（?✓など）は記入しないこと。
9. 解答用紙を折ったり汚したりしないこと。

I 次の文章を読んで、下記の問に答えなさい。

① 大日本帝国憲法（明治憲法）が、天皇により制定された A であつたの
に対し、日本国憲法は、国民により制定された民定憲法である。両憲法の章立て
は類似する部分が多く、第1章は同じ「天皇」の章となっているが、内容は全く
異なる。

日本国憲法は、第1条から第8条に天皇の規定を置くが、第1条は象徴天皇制
を定め、その地位^②の根拠が主権者である国民の総意にあることを示す。そして、
第2条は、1が、世襲のものであつて、国会の議決した皇室典範の定め
るところにより継承されるとし、第3条は、天皇の行為に対する内閣の責任を定め
ているが、それらの条文は天皇に関する民主的な統制について規定している。
これに対して、明治憲法では、天皇の地位は天皇の祖先である神々の意思（神
勅）に根拠があり、皇室に関する事項は議会の統制が及ばないことが基本原則
（皇室自律主義）とされていた。

第4条は、天皇に国政に関する権能がないことを明記し、形式的儀礼的行為で
ある国事行為のみを行うと規定する。国事行為としては、第6条第1項により、
国会の指名に基づき、2を任命すること、同条第2項により、内閣の指
名に基づき、3の長官を任命すること、第4条第2項により、その国事
に関する行為を委任することが規定されている。このほか、第7条により、憲法
改正、法律、政令及び条約を 4 すること（第1号）、5 を解散
すること（第3号）、国務大臣などの官吏の任免を 6 すること（第5号）
など10項目の国事行為が規定されている。国事行為には、すべて内閣の助言と承
認が必要であり、天皇自身の判断で行うことはできない。かつて明治憲法下では、
天皇が統治権の総攬者とされていたが、新憲法を制定する過程^③で、実質的な権力
を持たないこととされ、象徴天皇制のもとで国事行為のみを行うこととされた。

だが、天皇は、たとえば、被災地への慰問や各種行事での挨拶など、実際には
国事行為でもなく、私的行為でもない公的活動を頻繁に行っている。こうした活
動は憲法に根拠規定がないため、違憲であるとする考え方もあるが、多くの国民
に受け入れられている現実もあり、天皇の公務を多忙にする要因となっている。

〔問 1〕 文中の空欄 ～ に入る最も適切な語句を下記の語群

(ア)～(ツ)から選び、解答欄の該当する記号をマークしなさい。

- | | |
|------------|-----------|
| (ア) 内閣総理大臣 | (イ) 参議院 |
| (ウ) 裁可 | (エ) 両議院議長 |
| (オ) 衆議院 | (カ) 皇位 |
| (キ) 施行 | (ク) 最高裁判所 |
| (ケ) 枢密院議長 | (コ) 三種の神器 |
| (サ) 認可 | (シ) 公布 |
| (ス) 認証 | (セ) 批准 |
| (ソ) 裁判所 | (タ) 宮内庁 |
| (チ) 皇室財産 | (ツ) 貴族院 |

〔問 2〕 文中の下線部①の内容について正しく説明したものは以下のどれか。最も適切なものを選び、解答欄の該当する記号をマークしなさい。

- (ア) 天皇は国の元首とされ、憲法に基づいて統治権を行使することが定められていた。
- (イ) 帝国議会は、天皇の立法権を輔弼するものと定められていた。
- (ウ) 各国務大臣は、行政権の行使について天皇を協賛する責任を負うと定められていた。
- (エ) 裁判所は、天皇から独立して自ら司法権を行使すると定められていた。

〔問3〕 文中の下線部②に関連して、天皇に関する法令の規定について説明した
ものとして明らかに間違っているものは以下のどれか。1つを選び、解答
欄の該当する記号をマークしなさい。

- (ア) 日本国憲法第5条は、摂政について規定しているが、摂政は天皇の名
で国事行為を行うことになっている。
- (イ) 日本国憲法や皇室典範には、天皇の生前退位（譲位）の規定がないた
め、2017年に国会が特例法を制定し、一代限りの生前退位が可能となっ
た。
- (ウ) 日本国憲法は、男系男子の天皇を前提にした規定を置いているので、
女性天皇や女系天皇を実現するためには、憲法改正が必要になる。
- (エ) 日本国憲法第8条には、皇室に財産を譲り渡し、または皇室が、財産
を譲り受け、もしくは賜与することは、国会の議決に基づかなければなら
ないと規定されている。

〔問4〕 文中の下線部③について正しく説明したものは以下のどれか。最も適切
なものを選び、解答欄の該当する記号をマークしなさい。

- (ア) 日本政府は、新憲法を制定するために、貴族院と衆議院にそれぞれ憲
法審査会を設置した。
- (イ) マッカーサーによって示された三原則に基づくGHQ草案を原案にし
て、いわゆる「松本案」が作成された。
- (ウ) 憲法改正案は、帝国議会に提出されて審議が行われ、いくつかの修正
が加えられた後に可決された。
- (エ) 日本国憲法として1946年5月3日に国民に公布されて、翌1947年11月
3日より施行された。

〔問5〕 文中の空欄

A

 に入る最も適切な語句を漢字4文字で解答欄に記
入しなさい。

次のページに進みなさい。

Ⅱ 次の高校教員と生徒との会話文を読んで、下記の間に答えなさい。

教員：今日は、民主政治について考えていきましょう。まずは、理念である「民主主義」という言葉から入っていきたいと思うのですが、この語源を知っている人はいますか？

生徒：はい、**demokratia** です。民衆 (**demos**) と権力、支配 (**kratia**) が結合した言葉だとされています。たとえば、古代 のポリス (都市国家) では、市民が政治的意思をアゴラ (市民が集う公共広場) で話し合いながら決定していましたが、近代社会では、 が一般的な政治のあり方となりました。

教員：では次に、近代の民主政治を確認していきます。市民革命の理論的な基盤になったのは、どのような思想だったのでしょうか。

生徒：ホブズ、ロック、ルソーらに代表される ① です。この思想は、主として、自然状態にあった諸個人が自己の権利を守るために、秩序ある国家や社会を成立させると考えるものです。

教員：市民革命期に成立した国家において、立憲主義と国民主権が結びついていきます。それは、 ^Aにおいて、「あらゆる主権の原理は、本質的に国民に存する」(第3条)、「権利の保障が確保されず、権力の分立が規定されないすべての社会は、憲法をもつものでない」(第16条)と規定されたことに見てとれますよね。

教員：近代憲法が保障してきた基本的人権は当初、「国家からの自由」が中心でした。しかし、資本主義経済の発展に伴って貧富の差が拡大し、また、労働運動や社会運動が発展したことで新たな要素が加えられることになりました。それは何ですか。

生徒： ② です。これは、「国家による自由」とも呼ばれています。

教員：そのとおりです。また、こんにち、人権保障は一国内にとどまるものではなく、国際社会全体で取り組む流れが生じている②に注目する必要がありますが

ります。

生徒：でも、現代社会では、主権者である国民が、政治に関心や興味を持たなくなってきたように思いますが…。

教員：そうなんです。国民が政治的無関心におちいり、多くの人が選挙で投票しなくなれば、が機能しなくなってしまいます。近代の民主政治の中核にあるのは、民意ですよね。それは、アメリカ大統領が有名な演説の最後の部分で述べた「Government of the people, by the people, for the people」という言葉に象徴されます。国民不在の政治は、政治権力の勝手なふるまいを助長し、結果的に民主政治を危機にさらす可能性を高めてしまうのです。この問題については、大学に進学してから深く学んでくださいね。

〔問1〕 文中の空欄～に入る最も適切な語句を下記の語群

(ア)～(ツ)から選び、解答欄の該当する記号をマークしなさい。

- | | |
|---------------|--------------|
| (ア) ローマ | (イ) 王権神授説 |
| (ウ) アメリカ独立宣言 | (エ) 社会契約説 |
| (オ) 間接民主制 | (カ) ローズベルト |
| (キ) 参政権 | (ク) ケネディ |
| (ケ) ギリシャ | (コ) フランス人権宣言 |
| (サ) 平等権 | (シ) 直接民主制 |
| (ス) リンカン | (セ) 民主集中制 |
| (ソ) 三位一体説 | (タ) エジプト |
| (チ) バージニア権利章典 | (ツ) 社会権 |

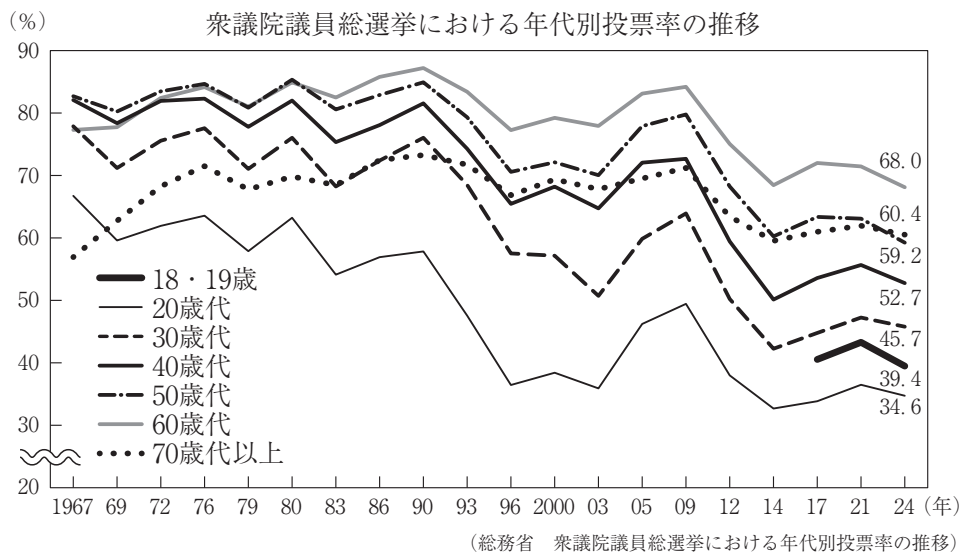
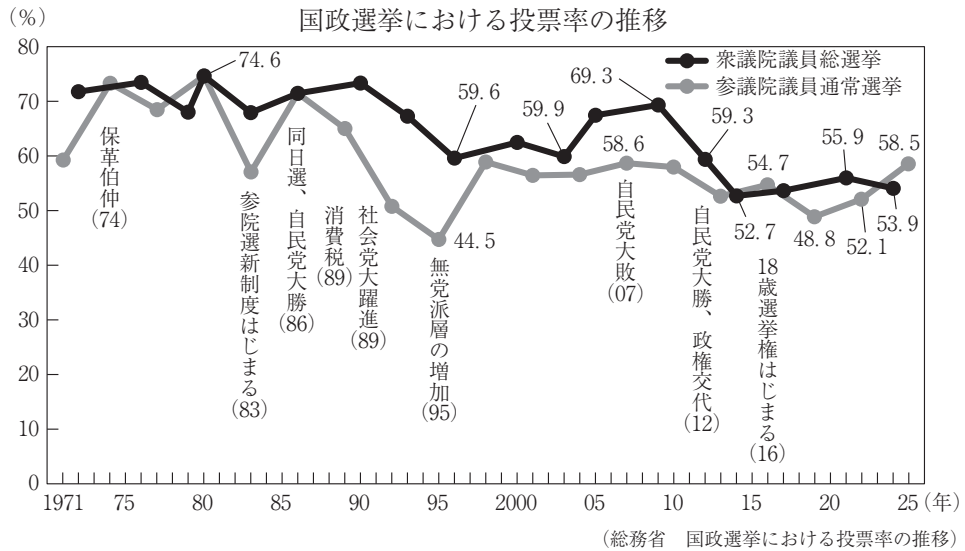
〔問2〕 文中の下線部①に関連して、この3人の思想家の考え方について正しく説明したものは以下のどれか。最も適切なものを選び、解答欄の該当する記号をマークしなさい。

- (ア) 自然権に基づいた3人の考え方はいずれも、絶対王政を否定するものであった。
- (イ) ホッブズは人民が自然権を主権者に譲渡すべきだと説いたが、ロックは人民には抵抗権があると説いた。
- (ウ) ルソーは、人民が自己保存の欲求に従って行動すれば「万人の万人に対する闘争」になると説いた。
- (エ) ホッブズの考え方はイギリスの名誉革命を擁護するものであり、ルソーの考え方はフランス革命に大きな影響を与えるものであった。

〔問3〕 文中の下線部②に関連して、人権に関する条約の内容や日本の対応について説明したものと明らかに間違っているものは以下のどれか。1つを選び、解答欄の該当する記号をマークしなさい。

- (ア) 女子差別撤廃条約を批准する際に国籍法が改正され、父系血統主義から父母両系血統主義に改められた。
- (イ) 子どもの権利条約は、18歳未満の子どもを権利の主体としており、意見表明権やプライバシーの権利などを認めている。
- (ウ) 死刑廃止条約を批准する際に刑法が改正され、特別無期刑が新設された。
- (エ) 障害者権利条約は、障がい起因するあらゆる差別を禁止しており、障がい者の社会参加の促進を求めている。

〔問4〕 文中の下線部③に関連して、次の図は国政選挙における投票率の推移と、衆議院議員総選挙における年代別投票率の推移を示したものである。これらの図について説明した【A】～【D】のうち、正しい内容の組み合わせは以下のどれか。最も適切なものを選び、解答欄の該当する記号をマークしなさい。



- 【A】 公職選挙法が改正され、2016年から18・19歳も選挙で投票できるようになったが、衆議院議員総選挙における18・19歳の投票率は他の年齢層に比べて最も低く推移しており、20歳代に比べて10ポイント以上の差がある。
- 【B】 衆議院議員総選挙の投票率は、1970年代から2000年代まで（なお、1996年および2003年を除く）、60%台～70%台で推移してきたが、2010年代になると60%を下回り、2014年には52.7%を記録した。以来、50%台前半から中盤で推移している。
- 【C】 無党派層が増加した1995年の参議院議員通常選挙では、投票率が40%台前半にまで落ち込んだが、自民党が大敗した2007年の参議院議員通常選挙では69.3%の投票率を記録した。
- 【D】 平成年間では、衆議院議員総選挙における60歳代の投票率は60%台後半から80%台で推移してきており、他の年齢層に比べて最も高く推移している。また、70歳代以上の投票率については、2024年に50歳代を抜き、2番目に高くなった。

- (ア) 【A】 と 【B】 と 【C】
- (イ) 【A】 と 【B】 と 【D】
- (ウ) 【A】 と 【C】 と 【D】
- (エ) 【B】 と 【C】 と 【D】
- (オ) 【A】 と 【B】
- (カ) 【A】 と 【C】
- (キ) 【A】 と 【D】
- (ク) 【B】 と 【C】
- (ケ) 【B】 と 【D】
- (コ) 【C】 と 【D】

〔問5〕 文中の下線部Aに関連して、1215年に、イギリスのジョン王の専制的支配に反対し、貴族が団結して、王権の制限や身分の特権などを認めさせた文書を何というか。最も適切な語句を漢字3文字で解答欄に記入しなさい。

Ⅲ 次の文章を読んで、下記の問題に答えなさい。

市場経済は直線的に成長するわけではなく、その過程では必ず景気の変動が現れる。すなわち、好況→後退→不況→回復という景気循環を繰り返すことになる。このような景気循環にはいくつかの周期が見られ、それらが重なり合って中長期の景気循環が形成される。しかし、実際の景気の変動を見極めることは非常に難しく、景気の山と谷は後になってから確定されるものである。

経済の状態を把握するうえでは、客観的な経済指標の数値が重要になる。一国の経済規模を表す指標としては、一般的には国内総生産（GDP）が用いられる。GDPに を加えると国民総所得（GNI）が算出される。GNIから を引くと国民純生産（NNP）が算出される。さらにNNPから間接税を差し引き を加えたものが国民所得（NI）である。なお、GDPは生産・分配・支出の各側面から捉えることができるが、それらの値が一致することを の原則という。

GDPが一定期間（通常は1年間）に増加した割合が経済成長率である。経済成長率には、物価が変動した分を含めた名目経済成長率と、物価が変動した分を除いた実質経済成長率とがある。名目GDPから実質GDPを算出する際には、物価指数である が用いられ、これで名目GDPを除することによって、実質GDPを算出することができる。

このような様々な経済指標によって、国民の豊かさがある程度は測ることができる。だが、国民の本当の豊かさを測ることは難しい。たとえば、対価を伴わない家事労働はGDPには含まれない。また、多くの人が働けば働くほどGDPは増えるが、そのため過労死が増えたりすれば国民の豊かさは損なわれる。

GDPの国際比較にも注意が必要である。日本は、2023年に名目GDPが に抜かれて世界第4位となったが、このような国際比較をする場合、各国のGDPを基軸通貨の に換算して比較するため、為替相場の影響を大きく受けることとなる。この順位の変動には、2022年からの為替変動の影響があったことが指摘されている。経済指標を読み解くには、単年度のGDPを比較するだけでなく、GDPの長期的な推移を見ていくことも重要なのである。

〔問1〕 文中の空欄 ～ に入る最も適切な語句を下記の語群

(ア)～(ツ)から選び、解答欄の該当する記号をマークしなさい。

- | | |
|---------------|--------------|
| (ア) 海外からの所得 | (イ) 補助金 |
| (ウ) 円 | (エ) 固定資本減耗 |
| (オ) 企業物価指数 | (カ) 中国 |
| (キ) 課徴金 | (ク) ドル |
| (ケ) 設備投資 | (コ) 公害対策費用 |
| (サ) ユーロ | (シ) 海外からの純所得 |
| (ス) GDPデフレーター | (セ) インド |
| (ソ) 直接税 | (タ) 海外への所得 |
| (チ) ドイツ | (ツ) 消費者物価指数 |

〔問2〕 文中の下線部①に関連して、景気循環の波について正しく説明したものは以下のどれか。最も適切なものを選び、解答欄の該当する記号をマークしなさい。

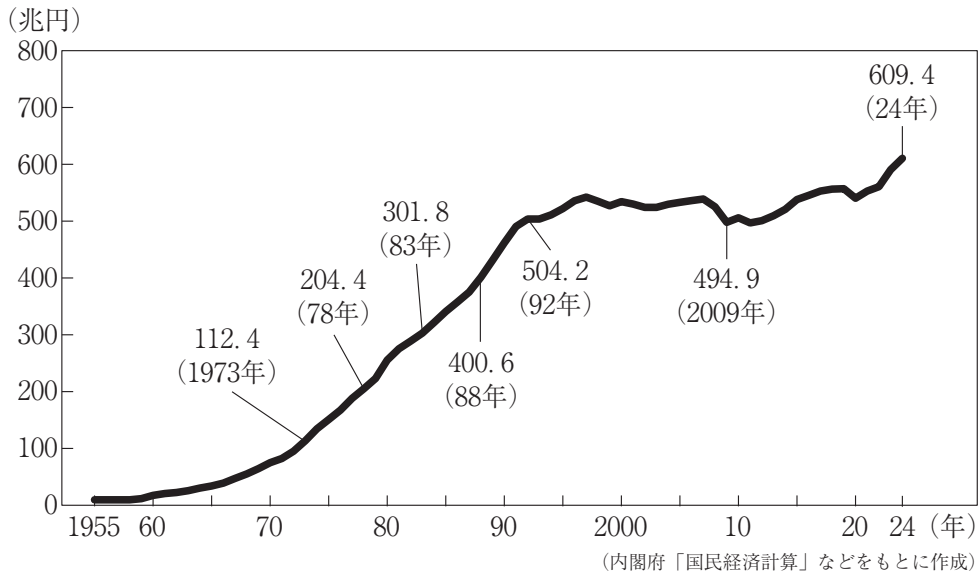
- (ア) キチンの波の周期は40か月程度であり、その主な原因は受注残の変動である。
- (イ) ジュグラーの波の周期は7～10年程度であり、その主な原因は建設投資の動向である。
- (ウ) クズネッツの波の周期は20年程度であり、その主な原因は設備投資の盛衰である。
- (エ) コンドラチェフの波の周期は50年程度であり、その主な原因は技術革新である。

〔問3〕 文中の下線部②に関連して、国民の豊かさや暮らしの改善状況を測る指標について説明したものとして明らかに間違っているものは以下のどれか。

1つを選び、解答欄の該当する記号をマークしなさい。

- (ア) 国民純福祉（NNW）は、公害などのマイナス部分や余暇などのプラス部分を金銭で評価して算出される。
- (イ) グリーンGDPは、環境の破壊による国民生活の質の低下や対策費用などをGDPから控除して算出される。
- (ウ) 人間開発指数（HDI）は、国民の教育水準や出生時の平均余命などによって算出される。
- (エ) 国民総幸福量（GNH）は、WHOが考案した指標で、文化の保存やよい統治などの要素を考慮して算出される。

〔問4〕 文中の下線部③に関連して、次の図は日本の名目GDPの長期的な動向（1955年～2024年）を示したものである。この図にある数字の推移やその背景にあった経済事象について説明したものととして明らかに間違っているものは以下のどれか。1つを選び、解答欄の該当する記号をマークしなさい。



- (ア) 1973年に100兆円を超えて以降、おおよそ5年ごとに約100兆円ずつ増加して、1988年までに400兆円を超えた。
- (イ) 400兆円を超えた時期はバブル経済期にあたり、この間おおよそ4年で約100兆円増加して、1992年に500兆円を超えた。
- (ウ) 1990年代初頭に起きたバブル崩壊以降、経済成長がみられなくなり、20年超にわたって500兆円前後で推移する不況が続いた。
- (エ) 2022年以降、物価が上昇する状況とあいまって、2024年に600兆円を超えるようになった。

〔問5〕 文中の空欄 A に入る最も適切な語句を漢字4文字で解答欄に記入しなさい。

IV 次の文章を読んで、下記の問題に答えなさい。

現在の国際経済は、これまでの時代と異なる様々な課題に直面している。

たとえばイギリスの経済学者 [1] が比較生産費説を唱えてから理想とされてきた自由貿易ではなく、高関税などによる保護貿易的な政策が採られるようになってきている。また近年、地域経済統合の象徴でもあった欧州連合（EU）から [2] が離脱した。^①さらに、近年に表面化してきたアメリカと中国の経済的な対立は、これからも続いていくことが考えられる。

日本は、高度経済成長期には、1ドル=360円という円安水準の固定為替相場制を背景に原材料を輸入して工業製品を輸出する [3] を得意としていた。しかし、1971年の [4] ・ショックを経て1973年頃から先進諸国において変動相場制が導入されるようになり、1976年にはキングストン合意によって正式に承認された。これ以降、日本経済は為替相場の変動の影響を受けるようになり、1985年の [5] 合意以降の急激な円高ドル安では円高不況に陥った。それ以降は約30年にわたり、基本的に円高のトレンドが維持されてきた。

1990年代に入ると、IT革命もあいまって国際経済は急速にグローバル化が進んだ。2000年代から2010年代はその興隆を極めたが、それは自由貿易と国際協調を前提とするものだった。

2020年代に入り、国際経済に大きな変化があった。まず新型コロナウイルス感染症^Aの世界的な拡大に直面した。世界各国ではその対策のため、都市封鎖を意味するロックダウンが行われたことなどから輸出入の貿易は大きく落ち込んだ。また、2022年2月に始まったロシアのウクライナ侵攻によって、国際経済は大きな影響を受けた。^③さらに、日本経済は急激な円安に直面した。これは輸出にとっては有利となるが、必ずしもかつてのように日本経済にとってプラスにはならないと言われている。実際、商品の輸出入による収支である [6] は赤字に陥った。

〔問1〕 文中の空欄 ～ に入る最も適切な語句を下記の語群

(ア)～(ツ)から選び、解答欄の該当する記号をマークしなさい。

- | | |
|----------|------------|
| (ア) ルーブル | (イ) 加工貿易 |
| (ウ) ケネー | (エ) リスト |
| (オ) イタリア | (カ) プラザ |
| (キ) 水平貿易 | (ク) リカード |
| (ケ) ギリシャ | (コ) イギリス |
| (サ) オイル | (シ) 経常収支 |
| (ス) リーマン | (セ) 貿易収支 |
| (ソ) 域内貿易 | (タ) スミソニアン |
| (チ) ニクソン | (ツ) サービス収支 |


〔問2〕 文中の下線部①について説明したものとして明らかに間違っているもの

は以下のどれか。1つを選び、解答欄の該当する記号をマークしなさい。

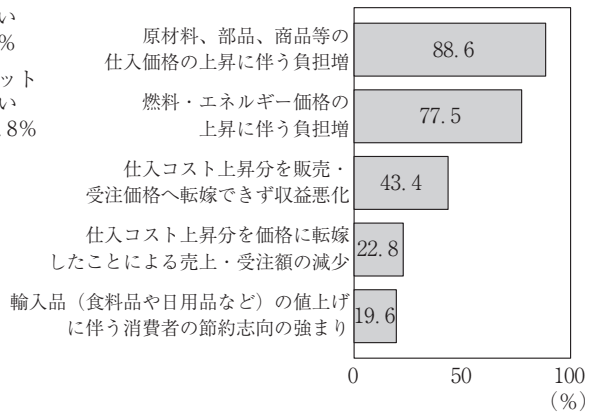
- (ア) アジア太平洋経済協力（A P E C）は、アジア・太平洋地域版のE U を目指して発足した経済統合である。
- (イ) アメリカが離脱した環太平洋パートナーシップに関する包括的及び先進的な協定（C P T P P）に、新たにイギリスが加盟した。
- (ウ) 東アジア地域包括的経済連携（R C E P）には、A S E A N諸国以外にも日本・中国・韓国が参加している。
- (エ) アメリカ・メキシコ・カナダ協定（U S M C A）は、北米自由貿易協定（N A F T A）にかわり締結された。

〔問3〕 文中の下線部②に関連して、次の各図は中小企業を対象に円安基調が業績に与える影響およびこれに関連する項目について調査した結果を示したものである。これらの図について説明したものととして明らかに間違っているものは以下のどれか。1つを選び、解答欄の該当する記号をマークしなさい。

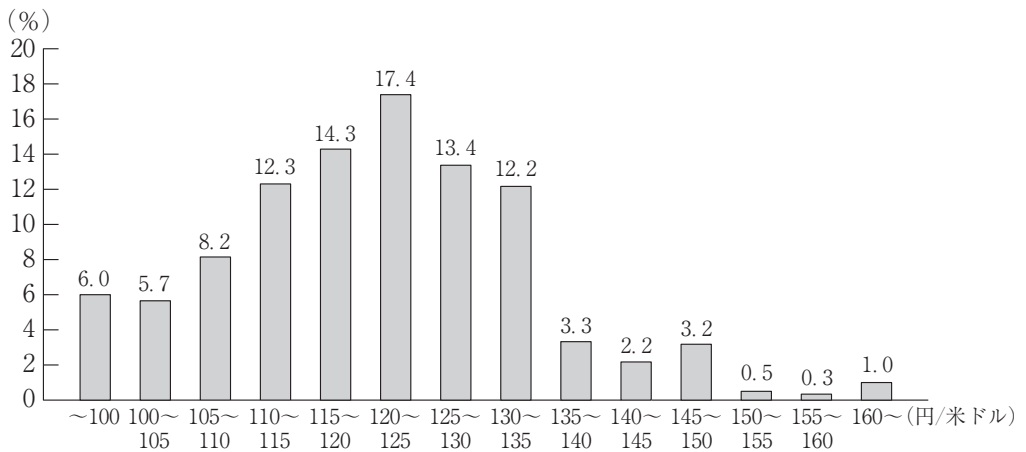
(1) 業績に与える影響※1



(2) デメリットの内容※2



(3) 望ましい為替レート



(日本商工会議所「商工会議所LOBO（早期景気観測）／2024年6月調査結果」をもとに内閣府作成)

※1 商工会議所の会員企業2008社の回答

※2 複数回答／上位5社

- (ア) 円安基調は「デメリットが大きい」と回答した企業が過半数を超えており、「メリットが大きい」と回答した企業を大きく上回っている。
- (イ) デメリットの内容としては、「原材料、部品、商品等の仕入価格の上昇に伴う負担増」という回答が88.6%で、「燃料・エネルギー価格の上昇に伴う負担増」という回答が77.5%となっている。
- (ウ) デメリットの内容としては、「仕入コスト上昇分を販売・受注価格へ転嫁できず収益悪化」が「仕入コスト上昇分を価格に転嫁したことによる売上・受注額の減少」を上回っている。
- (エ) 望ましい為替レートは、1ドル「110～115」円から「130～135」円の間で回答した企業の割合が、合計で約8割となっている。

〔問4〕 文中の下線部③に関連して、2020年代の国際経済の状況について正しく説明したものは以下のどれか。最も適切なものを選び、解答欄の該当する記号をマークしなさい。

- (ア) 日本のインフレーションは先進国の中で最も深刻な状況となり、「狂乱物価」と呼ばれた。
- (イ) 世界的に原材料やエネルギーなどの価格が上昇し、工業製品のコスト上昇の要因となった。
- (ウ) ヨーロッパ諸国は、自国の経済を守るためEUの加盟国間でも高関税をかけるようになった。
- (エ) G A F Aなど世界的なIT企業の業績が好調なアメリカは、経常収支が黒字に転換した。

〔問5〕 文中の下線部Aに関連して、このような感染症の世界的な拡大を何というか。最も適切な語句をカタカナ6文字で解答欄に記入しなさい。

I

問1	1	ア イ ウ エ オ ● キ コ ク ケ コ サ シ ス セ ソ タ ヲ	問2	● イ ウ エ
	2	● イ ウ エ オ カ キ コ ク ケ コ サ シ ス セ ソ タ ヲ	問3	ア イ ● エ
	3	ア イ ウ エ オ カ キ ● ク コ サ シ ス セ ソ タ ヲ	問4	ア イ ● エ
	4	ア イ ウ エ オ カ キ コ ク ケ コ ● サ シ ス セ ソ タ ヲ		
	5	ア イ ウ エ ● カ キ コ ク ケ コ サ シ ス セ ソ タ ヲ		
	6	ア イ ウ エ オ カ キ コ ク ケ コ サ シ ● セ ソ タ ヲ		

25点

問5 **欽 定 憲 法**

II

問1	1	ア イ ウ エ オ カ キ コ ● ク ケ コ サ シ ス セ ソ タ ヲ	問2	ア ● ウ エ
	2	ア イ ウ ● オ カ キ コ ク ケ コ サ シ ス セ ソ タ ヲ	問3	ア イ ● エ
	3	ア イ ウ ● オ カ キ コ ク ケ コ ● サ シ ス セ ソ タ ヲ	問4	ア イ ウ エ オ カ キ ● コ
	4	ア イ ウ エ オ カ キ コ ク ● ケ コ サ シ ス セ ソ タ ヲ		
	5	ア イ ウ エ オ カ キ コ ク ケ コ サ シ ス ● セ ソ タ ヲ		
	6	ア イ ウ エ オ カ キ コ ク ケ コ ● セ ソ タ ヲ		

25点

問5 **大 憲 章**

III

問1	1	ア イ ウ エ オ カ キ コ ク ● ケ コ サ シ ス セ ソ タ ヲ	問2	ア イ ● ●
	2	ア イ ● ● オ カ キ コ ク ケ コ サ シ ス セ ソ タ ヲ	問3	ア イ ● ●
	3	ア ● ウ エ オ カ キ コ ク ケ コ サ シ ス セ ソ タ ヲ	問4	ア イ ● エ
	4	ア イ ウ エ オ カ キ コ ク ケ コ ● サ シ ス セ ソ タ ヲ		
	5	ア イ ウ エ オ カ キ コ ク ケ コ サ シ ス ● セ ソ タ ヲ		
	6	ア イ ウ エ オ カ ● キ コ ク ケ コ サ シ ス セ ソ タ ヲ		

25点

問5 **三 面 等 価**

IV

問1	1	ア イ ウ エ オ カ ● キ コ サ シ ス セ ソ タ ヲ	問2	● イ ウ エ
	2	ア イ ウ エ オ カ キ コ ● サ シ ス セ ソ タ ヲ	問3	ア イ ● ●
	3	ア ● ウ エ オ カ キ コ ク ケ コ ● サ シ ス セ ソ タ ヲ	問4	ア ● ● エ
	4	ア イ ウ エ オ カ キ コ ク ケ コ ● サ シ ス ● セ ソ タ ヲ		
	5	ア イ ウ エ ● カ キ コ ク ケ コ サ シ ス セ ソ タ ヲ		
	6	ア イ ウ エ オ カ キ コ ク ● ケ コ サ シ ス ● セ ソ タ ヲ		

25点

問5 **パ ン デ ミ ッ ク**