

2022（令和4）年度

2日〔**〕

地理歴史（世界史）

注 意

1. 監督者の指示があるまでは、問題を見ないこと。
2. 問題は声を出して読まないこと。
3. 問題は22ページ、**①**、**②**、**③**、**④**の4問から成っており、解答すべき箇所は44箇所ある。
4. 問題や解答用紙に落丁、乱丁、汚損あるいは印刷不鮮明の箇所などがあれば、手をあげて監督者に申し出ること。ただし内容に関する質問は受けつけない。
5. 解答は**マーク式**と**記述式**（3箇所）がある。解答は必ず**鉛筆を使用**し、マーク式の場合は解答用紙の所定解答欄の記号に**マークすること**。
6. 訂正箇所は、消しゴムで**完全に消すこと**。
7. 解答に関係のない符号（?レなど）は記入しないこと。
8. 解答用紙を**折ったり汚したりしないこと**。

1 次の文を読んで以下の設問に答えなさい。

歴史書は、おおきく紀伝体と編年体に分類され、現在歴史研究を行う際に欠かせないテキストである。中国では司馬遷のまとめた『史記』にはじまり、⁽¹⁾ ① の時代までに24の正史が作られた。これらのうち、⁽¹⁾ ② が作成した『漢書』や陳寿の作成した『三国志』が有名である。また、唐の第二代皇帝⁽²⁾ ③ の命により編纂され成立した『晋書』、そして欧陽脩が編纂した『新五代史』などが知られる。また、歴史書の編纂は遊牧民族の建てた国家や、日本や朝鮮半島でも行われた。日本では8世紀前半に『日本書紀』が編纂され、朝鮮半島では、⁽³⁾12世紀前半に⁽⁴⁾『三國史記』が編纂された。元代には、托克托がモンゴル帝国の滅ぼした国々の正史を作成した。

正史以外にも歴史研究の史料として、⁽⁵⁾中国では、司馬光の編纂した『資治通鑑』といった編年体の歴史書や、明代の『⁽⁵⁾④』といった類書があげられる。これらは、正史に書かれていない情報を伝えており、貴重な記録である。

⁽⁶⁾明末清初以降、考証学などによって進められていた東アジア諸国の歴史研究は、近代に入ると、史料批判を通じて実証的・科学的な歴史学を主張した⁽⁶⁾ ⑤ によって大きな影響を受けることになる。

設問1 文中の空欄 ⑥ にあてはまる人物名を漢字で書きなさい。

設問2 文中の空欄 ① ～ ④ にあてはまる語句を以下の語群から
選びなさい。

〔語群〕

- | | |
|------------|-----------|
| ① (ア) 遼 | (イ) 明 |
| (ウ) 清 | (エ) 宋 |
| ② (ア) 李世民 | (イ) 李白 |
| (ウ) 李贄 | (エ) 李淵 |
| ③ (ア) 四庫全書 | (イ) 永樂大典 |
| (ウ) 四書大全 | (エ) 漢宮秋 |
| ④ (ア) ランケ | (イ) サヴィニー |
| (ウ) リスト | (エ) カント |

設問3 下線部(1)に関連して、この史料に収録されている時代の出来事として、
正しいものを以下の中から選びなさい。

- ア マルクス＝アウレリウス＝アントニヌス帝の使者が日南郡へ赴いた。
- イ 倭の奴国の使者が印綬を受けた。
- ウ 東匈奴が南北に分裂した。
- エ 張騫が匈奴挾撃のため、大月氏や烏孫に派遣された。

設問4 下線部(2)に関する記述として、正しいものを以下の中から選びなさい。

- (ア) 後梁の時代に、遼が渤海を滅ぼした。
- (イ) 後唐の時代に、高麗が新羅を征服した。
- (ウ) 後晋の時代に、耶律阿保機が遼を建国した。
- (エ) 後漢の時代に、白蛮系の豪族が大理を建国した。

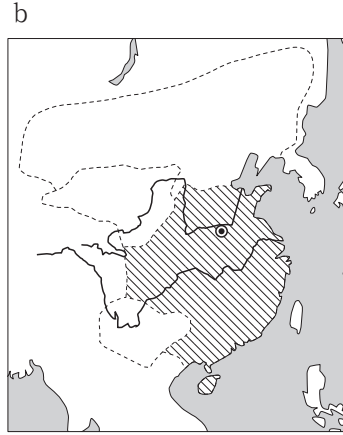
設問5 下線部(3)に関して、同じ時代の出来事として、正しいものを以下の中から選びなさい。

- (ア) 高麗では武臣政権が成立した。
- (イ) 金属活字が高麗で作られた。
- (ウ) 日本では平氏政権が滅亡した。
- (エ) 南宋の高宗が臨安を都とした。

設問6 下線部(4)に関して、朝鮮半島の三国時代と同じ時代の出来事として、誤っているものを以下の中から選びなさい。

- (ア) 倭の五王が南朝に使節を派遣した。
- (イ) 則天武后が国号を周と改めた。
- (ウ) 突厥が柔然を滅ぼした。
- (エ) 孔穎達が『隋書』の編纂に参画した。

設問7 下線部(5)に関して、次の地図a～cの斜線部分は中国王朝の領域を、◎はその国の首都を、点線の範囲は周辺の国家を示している。時代順に並べたものとして、正しいものを以下の中から選びなさい。



- (ア) a → b → c
- (イ) b → a → c
- (ウ) c → a → b

- (エ) a → c → b
- (オ) b → c → a
- (カ) c → b → a

設問8 以下の地図は下線部(6)の時代（15世紀）のアジアを示したものである。
 地図中の地域に関する記述のA～Dの正誤の組み合わせとして、正しいものを以下の中から選びなさい。



- A aの国の首都は、黄巢の乱によって移動した。
- B bの国の首都は、ソンツェン＝ガンポが7世紀末に建国した際に都とした都市である。
- C cの国の最初の首都は、康国と呼ばれたソグド人の都市であった。
- D dの国は、ヒンドゥー教の国であり、都のヴィジャヤナガルは「勝利の町」を意味する。

- (ア) A－正 B－誤 C－正 D－正
- (イ) A－正 B－正 C－誤 D－誤
- (ウ) A－誤 B－誤 C－正 D－正
- (エ) A－誤 B－正 C－正 D－誤

2 次の文を読んで以下の設問に答えなさい。

南北アメリカ大陸の歴史は、大西洋をはさんだヨーロッパに強い影響を受けてきた。大航海時代になると、ヨーロッパ人がアメリカ大陸への航海に乗り出した。⁽¹⁾アメリカ大陸への進出を本格化したスペインは、先住民を征服し、彼らの保護とキリスト教化を条件として植民者に支配を委ねる⁽²⁾ ① を導入した。労働力として酷使されたことなどによって先住民の人口は激減し、かわりの労働力としてアフリカから多くの黒人奴隷が輸入され、使役されるようになった。17世紀になると、オランダやイギリス、フランスなどがアメリカ大陸に進出した。18世紀にはイギリスとフランスの植民地戦争が激化したが、最終的にイギリスが勝利した。

イギリスが18世紀前半までに北アメリカの大西洋岸に建設した13の植民地では、一定の自治が認められていた。七年戦争後にイギリス本国が課税と統治の強化をはかると、植民地側はこれに反発してアメリカ独立戦争が起こった。この戦争にはフランスの自由主義貴族の ② も参加した。勝利したアメリカ合衆国は独立を達成し、1787年には合衆国憲法が制定された。一方、植民地支配のもとにあったラテンアメリカでは、⁽³⁾アメリカ合衆国の独立やフランス革命の影響によって独立運動が起こり、1810～20年代に多くの国が独立した。アメリカ合衆国の ③ ⁽⁴⁾ 大統領は、ラテンアメリカ諸国の独立を支持し、1823年に教書を発表してヨーロッパ諸国に不干渉を求め、これはアメリカ合衆国の外交政策の基本となった。

アメリカ合衆国は19世紀前半にかけて領土を拡大し、西部開拓が進展した。その⁽⁵⁾過程で奴隷制や貿易制度をめぐる南部と北部の対立が激化し、1861年には南北戦争が勃発した。南北戦争後、国内の再建が進み、重工業が発展したが、⁽⁶⁾南部では ④ A などの秘密結社が組織されて黒人への迫害が続いた。1890年にフロンティアの消滅が宣言されると、アメリカ合衆国では海外進出を求める声が高まった。マッキンリー大統領の時代にはアメリカ＝スペイン（米西）戦争が起こり、1899年には国務長官の ④ が中国に対する門戸開放政策を提唱した。20世紀に入り第一次世界大戦が勃発すると、アメリカ合衆国は中立の立場をとったが、

⑤などをきっかけとして1917年に連合国側について参戦した。ウィルソン大統領が1918年に発表した民族自決や国際平和機構の設立を掲げた十四カ条は、パリ講和会議の基本となった。

設問1 文中の空欄 ④ にあてはまる語句をカタカナで書きなさい。

設問2 文中の空欄 ① ~ ⑤ にあてはまる語句を以下の語群から選びなさい。

〔語群〕

- | | |
|--------------------|----------------|
| ① (ア) ライヤットワーリー制 | (イ) アシエンダ制 |
| (ウ) マンサブダール制 | (エ) エンコミエンダ制 |
| ② (ア) ラ＝ファイエット | (イ) ミラボー |
| (ウ) バブーフ | (エ) ドラクロワ |
| ③ (ア) ジャクソン | (イ) トマス＝ジェファソン |
| (ウ) フーヴァー | (エ) モンロー |
| ④ (ア) ジョン＝ハイ | (イ) マーシャル |
| (ウ) ケロッグ | (エ) ベリー |
| ⑤ (ア) ロンドン秘密条約 | |
| (イ) 無制限潜水艦作戦 | |
| (ウ) 真珠湾（パールハーバー）攻撃 | |
| (エ) プラット条項 | |

設問3 下線部(1)に関する記述として、誤っているものを以下の中から選びなさい。

- (ア) ポルトガルのバルトロメウ＝ディアスは、大西洋とインド洋を結ぶアフリカ南端の喜望峰に到達した。
- (イ) スペインのバルボアは、南北アメリカ間のパナマ地峡を横断し、太平洋に到達した。
- (ウ) ポルトガルのマゼラン（マガリャンイス）は、スペイン国王フェリペ2世の後援で西まわりの航海に出発し、その船団は世界周航を達成した。
- (エ) 新航路が開拓されたことで、ヨーロッパにおける遠隔地貿易の中心地は地中海から大西洋に移動した。これを商業革命という。

設問4 下線部(2)に関して、インカ帝国を滅ぼしたスペイン人「征服者」（コンキスタドール）として、正しいものを以下の中から選びなさい。

- (ア) カボット
- (イ) コルテス
- (ウ) ピサロ
- (エ) マデロ

設問5 下線部(3)に関して、アメリカ合衆国憲法とその修正条項に関する記述として、正しいものを以下の中から選びなさい。

- (ア) 合衆国憲法は圧政への抵抗権を主張したロックによって起草され、フィラデルフィアで開かれた憲法制定会議で採択された。
- (イ) 合衆国憲法では、各州議会が持つ立法権をアメリカ連邦（中央）政府に委譲することが認められた。
- (ウ) 南北戦争後、憲法修正により奴隷制は正式に廃止された。
- (エ) 第二次世界大戦後、憲法修正により女性参政権が認められた。

設問6 下線部(4)に関して、19世紀前半に独立した国とその国の独立運動の指導者の組み合わせとして、正しいものを以下の中から選びなさい。

- (ア) ハイチ — ゲバラ
- (イ) アルゼンチン — サン＝マルティン
- (ウ) ブラジル — トゥサン＝ルヴェルチュール
- (エ) メキシコ — シモン＝ボリバル

設問7 下線部(5)に関連する出来事の順番として、正しいものを以下の中から選びなさい。

- (ア) ミシシッピ川以西のルイジアナ買収→フロリダ買収→テキサス併合→カリフォルニア獲得
- (イ) ミシシッピ川以西のルイジアナ買収→フロリダ買収→カリフォルニア獲得→テキサス併合
- (ウ) フロリダ買収→ミシシッピ川以西のルイジアナ買収→テキサス併合→カリフォルニア獲得
- (エ) フロリダ買収→ミシシッピ川以西のルイジアナ買収→カリフォルニア獲得→テキサス併合

設問8 下線部(6)に関する記述として、正しいものを以下の中から選びなさい。

- (ア) 民主党のリンカンが大統領に当選すると、南部諸州は合衆国から離脱してアメリカ連合国を成立させた。
- (イ) 戦争中にリンカンはホームステッド法（自営農地法）を制定し、西部の支持を取りつけた。
- (ウ) 戦争中にトマス＝ペインは『コモン＝センス』（『常識』）を出版し、世論を動かした。
- (エ) 最大の激戦となったヨークタウンの戦いの追悼式典で、リンカンは「人民の、人民による、人民のための政治」を訴えた。

3 次の文を読んで以下の設問に答えなさい。

ローマ帝国の東西分裂後、東ヨーロッパではコンスタンティノープルを都とするビザンツ帝国（東ローマ帝国）が成立し、独自の文化的世界を形成した。

ユスティニアヌス1世（大帝）は、ヴァンダル王国と東ゴート王国⁽¹⁾を滅ぼして地中海世界を回復し、ササン朝の①と抗争した。また、首都にハギア⁽²⁾（セント）＝ソフィア聖堂を建立し、『ローマ法大全』を編纂させた。ユスティニアヌス1世の死後、ビザンツ帝国の地中海支配は後退した。6世紀には、スラヴ人がビザンツ帝国北方の地に広がるようになった。東スラヴ人などはビザンツ文化とギリシア正教を受容し、西スラヴ人は西ヨーロッパの影響を受け、ローマ⁽³⁾＝カトリックを受容した。一方、非スラヴ系の民族も自立し、7世紀後半にはトルコ系の②がバルカン半島北部で建国し、その後ギリシア正教を受容した。ビザンツ帝国は、公用語として③が用いられるようになった7世紀前半のヘラクレイオス1世の時代には、イスラーム勢力の侵攻に苦しんだ。8世紀には、レオン3世⁽⁴⁾によって聖像禁止令が発布された。

11世紀になると、軍事奉仕を条件として貴族に国有地の管理を委ねる④が導入された。この頃、ビザンツ帝国はセルジューク朝の圧迫を受け、ビザンツ皇帝はローマ教皇に救援を求めた。これにより、十字軍⁽⁵⁾が開始されたが、④年から始まった第4回十字軍は首都コンスタンティノープルを占領した。その後、ビザンツ帝国は復活したものの国力は回復せず、1453年、⑤が指揮するオスマン帝国軍の攻撃によって首都が陥落し、ビザンツ帝国は滅亡した。

設問1 文中の空欄④にあてはまる語句を書きなさい。

設問2 文中の空欄 ～ にあてはまる語句や数字を以下の語群から選びなさい。

[語群]

- | | |
|----------------|--------------|
| ① (ア) アルダシール1世 | (イ) シャープール1世 |
| (ウ) ホスロー1世 | (エ) キュロス2世 |
| ② (ア) マジャール人 | (イ) ザクセン人 |
| (ウ) ブルガール人 | (エ) フン人 |
| ③ (ア) トスカナ語 | (イ) ラテン語 |
| (ウ) アラム語 | (エ) ギリシア語 |
| ④ (ア) 1189 | (イ) 1202 |
| (ウ) 1290 | (エ) 1303 |
| ⑤ (ア) セリム1世 | (イ) メフメト2世 |
| (ウ) スレイマン1世 | (エ) バヤジット1世 |

設問3 下線部(1)に関して、次の年表に示したa～dの時期のうち、東ゴート王国が成立した時期として、正しいものを以下の中から選びなさい。

<input type="text" value="a"/>
395年 ローマ帝国が東西に分裂した
<input type="text" value="b"/>
476年 西ローマ帝国が滅亡した
<input type="text" value="c"/>
568年 ランゴバルド王国が成立した
<input type="text" value="d"/>

(ア) a (イ) b (ウ) c (エ) d

設問 4 下線部(2)に関する記述として、誤っているものを以下の中から選びなさい。

- (ア) 建築家ブラマンテによって設計され、列柱を備えるなど古典古代の理想が取り入れられている。
- (イ) ギリシア十字形の構造やドーム（円屋根）、ガラスや貝殻や石などの小片で装飾するモザイク壁画を特徴とする、ビザンツ様式の教会建築である。
- (ウ) この聖堂と同じ様式の建築として、アドリア海に面したイタリア北部のラヴェンナにあるサン＝ヴィターレ聖堂が知られる。
- (エ) オスマン帝国の占領後、イスラームのモスクに転用され、ミナレットとよばれる尖塔が4本つけ加えられた。

設問 5 下線部(3)に関して、カトリックに改宗した西スラヴ人として、正しいものを以下の中から2つ選びなさい。

- (ア) ポーランド人
- (イ) セルビア人
- (ウ) チェック人
- (エ) クロアチア人

設問 6 下線部(4)に関する記述として、正しいものを以下の中から選びなさい。

- (ア) この禁令の背景には、初期キリスト教が偶像崇拝を禁じていたことのほか、イスラーム勢力との対抗関係があった。
- (イ) この禁令が発布される以前、ローマ教会とコンスタンティノーブル教会との関係は良好で分断の兆しはなかった。
- (ウ) この禁令以後ビザンツ帝国（東ローマ帝国）では、1453年にオスマン帝国によって帝国が滅亡するまで聖像崇拝が禁止されつづけた。
- (エ) ローマ教会はこの禁令に反発し、ビザンツ皇帝に対抗できる保護者としてカール＝マルテルにフランク王位の継承を認めた。

設問7 下線部(5)に関連する出来事の順番として、正しいものを以下の中から選
びなさい。

- (ア) イエルサレム王国建設→アッココン陥落→ドイツ騎士団結成
- (イ) イエルサレム王国建設→ドイツ騎士団結成→アッココン陥落
- (ウ) ドイツ騎士団結成→アッココン陥落→イエルサレム王国建設
- (エ) ドイツ騎士団結成→イエルサレム王国建設→アッココン陥落

4 次の文を読んで以下の設問に答えなさい。

人種差別は様々な時代の世界各地で見られる現象であるが、人種差別が特定の民族集団の大規模虐殺に結びついた事例として、ナチ＝ドイツ（ナチス＝ドイツともいわれる）によるユダヤ人大量虐殺（ホロコースト）を挙げることができる。どうしてナチ党はドイツで政権を握り、どのようにしてホロコーストは行われたのだろうか。

ナチ党とは、「国民社会主義ドイツ労働者党」という党の略称で、ナチ党が政権の座にあった時のドイツを「ナチ＝ドイツ」という。この党は、第一次世界大戦後のドイツで誕生した。党首ヒトラーを絶対的な指導者とする政党であり、反ユダヤ主義、反共産主義、民族共同体の建設を訴えていた。硬軟織り交ぜた宣伝を通じて、ナチ党はそれまでのドイツ国内の様々な社会集団のいずれにも浸透するようになった。そして1933年1月30日に、ヴァイマル共和国の第2代大統領である ① は、ヒトラーを首相に任命した。最初のヒトラー政権は、右翼の小政党である国家国民党とナチ党の連立内閣として始まった。ただし、両党を足しても国会の過半数には届かない少数派内閣であった。ヒトラーは権力を得ると、即座に国会を解散し、 ② を利用しながら、共産党と社会民主党を弾圧した。こうして1933年3月の選挙で過半数を得たヒトラー政権は、全権委任法を成立させた。この法律は、法治国家と議会制民主主義の終わりを意味していた。

発足当時のヒトラー政権の最も重要な対外政策は、 ③ の全面的な修正と、大戦後に新たに発生した民族問題の「解決」であった。ヒトラー政権は、第一次世界大戦の講和条約である ③ に対する国内の不満と民族自決の原理を利用しつつ、民族的に同胞であるとみなした「在外ドイツ人」(しばしば「民族ドイツ人」と呼ばれた)を助けるという大義名分で、隣国を侵略した。そして ④ 年9月に第二次世界大戦が始まると、バルト諸国やソ連、東欧から民族ドイツ人をドイツに「帰還」させるようになる。そして今度は「帰還」した民族ドイツ人のために、かねてから差別と迫害の対象にされていたユダヤ人の土地が収奪されるようになった。そして1941年に独ソ戦が始まった。ドイツ軍は当初モスクワに迫るなどしたが、次第に戦況は悪化していった。それとほぼ同時に、

ナチ＝ドイツは絶滅収容所でユダヤ人を大量に殺戮する方針を明確にした。このようにして、ナチ＝ドイツの戦争は、ホロコーストへとつながったのである。

設問1 文中の空欄 ① ～ ④ にあてはまる語句や数字を以下の語群から選びなさい。

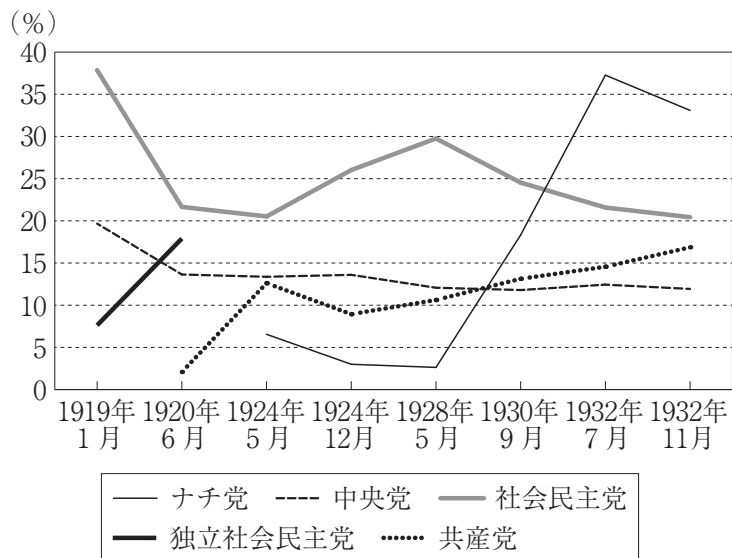
〔語群〕

- | | |
|----------------|-----------------|
| ① (ア) エーベルト | (イ) カール＝リープクネヒト |
| (ウ) ヒンデンブルク | (エ) シュトレーゼマン |
| ② (ア) 血の日曜日事件 | (イ) ファショダ事件 |
| (ウ) 「水晶の夜」 | (エ) 国会議事堂放火事件 |
| ③ (ア) ヴェルサイユ条約 | (イ) ロカルノ条約 |
| (ウ) ルール占領 | (エ) ハイパーインフレ |
| ④ (ア) 1938 | (イ) 1939 |
| (ウ) 1940 | (エ) 1941 |

設問2 下線部(1)に関連して、以下2つの資料から読み取れる解釈が、A～Dである。A～Dの正誤の組み合わせとして、正しいものを(ア)～(エ)から選びなさい。

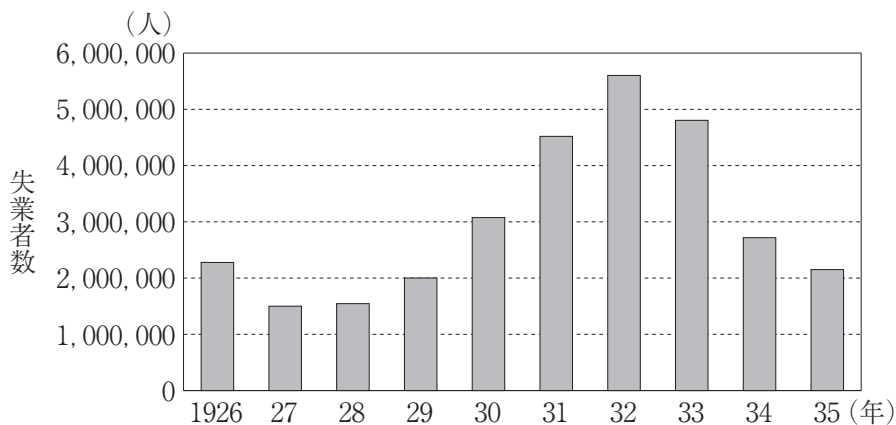
グラフ① 1919～32年の国会選挙における主要政党の得票率

(なおヴァイマル時代の選挙は完全比例制なので、得票率は国会議席占有率と同じになる)



(Statistisches Jahrbuch für das Deutsche Reich 1934 を参考に作成)

グラフ② 1926～35年のドイツの失業者数



(<https://de.statista.com/statistik/daten/studie/277373/umfrage/historische-arbeitslosenzahl-in-der-weimarer-republik/>を参考に作成)

- A ナチ党の勢いは1932年7月が最大で、同年11月の選挙ではすでに低落傾向にあった。
- B 社会民主党の勢いは1919年1月が最大で、その後低落し、1932年11月までにはナチ党と共産党に抜かれるようになった。
- C 1930年の選挙でナチ党と共産党が勢いを増した背景には、当時、フランスとベルギーが共同でルール地方を占拠していたことが考えられる。
- D 1930年の選挙でナチ党と共産党が勢いを増した背景には、アメリカ合衆国で始まった世界恐慌でドイツの失業者数が増加したことが考えられる。

- (ア) A - 正 B - 誤 C - 正 D - 誤
- (イ) A - 誤 B - 正 C - 正 D - 誤
- (ウ) A - 正 B - 誤 C - 誤 D - 正
- (エ) A - 誤 B - 正 C - 誤 D - 正

設問3 以下の資料は、下線部(2)の全権委任法の内容である。この資料の解釈のA～Cの正誤の組み合わせとして、正しいものを(ア)～(カ)から選びなさい。

国会は次の法律を議決した。

第一条：国の法律は、憲法の定める手続きによるほか、政府によっても制定され得る。〔…〕

第二条：政府が制定した国の法律は、憲法と背反し得る。ただし、国会および参議院の仕組みそのものが対象とならないかぎりにおいてである。〔…〕

第五条：本法律は、公示の日をもって施行される。1937年4月1日をもって失効する。現在の政府が他の政府に取って代わられたときにも失効する。

(歴史学研究会編『世界史史料集10』岩波書店より、訳は一部変更した)

- A この法律によって、政府が、立法と司法をすべて意のままに操ることができるようになった。
- B 政府の作った法律は、憲法に違反していても有効な法律になる。
- C この法律は、最初は4年間だけの期限付きの法律として可決された。

- | | | | |
|-----|-------|-------|-------|
| (ア) | A - 正 | B - 正 | C - 正 |
| (イ) | A - 誤 | B - 正 | C - 正 |
| (ウ) | A - 誤 | B - 誤 | C - 正 |
| (エ) | A - 誤 | B - 誤 | C - 誤 |
| (オ) | A - 正 | B - 誤 | C - 誤 |
| (カ) | A - 正 | B - 正 | C - 誤 |

設問4 下線部(3)のように、第一次世界大戦後、ヨーロッパでは「民族自決の原理」に基づいて新たな国家が誕生した。その説明として、正しいものを以下の中から選びなさい。

- (ア) 民族自決とは、必ずしも各民族が一つの国家を持つことを指してはならず、例えばセルブ＝クロアート＝スロヴェーン王国（ユーゴスラヴィア）のように、複数の民族が一つの国家を形成することもあった。
- (イ) 独仏係争の地であったアルザス・ロレーヌは、この原則に基づいて、住民たちが住民投票を行い、その結果、フランスに帰属することになった。
- (ウ) 戦後新しく誕生したポーランドは海へのアクセス権を主張し、その結果、かつてのダンツィヒをグダンスクと改称して自国の港湾都市にした。

設問5 下線部(4)のように、ナチ＝ドイツは次々と隣国を侵略していった。実際に侵略・併合された国の順番として、正しいものを以下の中から選びなさい。

- (ア) オーストリア→チェコスロヴァキア→ポーランド
- (イ) チェコスロヴァキア→オーストリア→ポーランド
- (ウ) ポーランド→チェコスロヴァキア→オーストリア
- (エ) ポーランド→オーストリア→チェコスロヴァキア

設問 6 下線部(5)に関連する以下の資料を読み、その解釈のA～Cの正誤の組み合わせとして、正しいものを(ア)～(エ)から選びなさい。

① ドイツ国公民法命令第一号（1935年11月14日）

第四条

第一項：ユダヤ人は、ドイツ国公民たり得ない。ユダヤ人には政治的問題に関する投票権は与えられない。また、公職に就くことは許されない。

第五条

第一項：ユダヤ人とは、〔祖父母 4 人中〕人種的に完全にユダヤ人の 3 人以上の祖父母を持つ者である。〔…〕

〔 〕 は訳者による補足

(*Reichsgesetzblatt, Teil I, Jahrgang* 1935より)

② ドイツ・ユダヤ人、ヴィクトール＝クレンペラーの日記

1938年12月2日。〔…〕突撃隊がいかに立ち回ったか、彼らがユダヤ教会とユダヤ人所有の百貨店にガソリンをぶちまけた様子、消防隊に許されたのは周りの建物への類焼を防ぐことだけ、火事場の消火はしなかった様子、その後百貨店の所有者が放火と保険金詐欺のかどで逮捕されたことなど彼女は話して聞かせた。

ライプツィヒで〔ユダヤ人に対する〕10億マルクの罰金のことも聞いた。ドイツの人民がユダヤ人を裁いた〔…〕。

(クレンペラー『私は証言する』大月書店から 訳は一部変更した)

- A 資料①からは、ユダヤ人への大規模な迫害の初期に、ユダヤ人の公職追放が行われたことが読み取れる。
- B 資料①からは、人種的な観点から「誰がユダヤ人か」という定義が行われたことが読み取れる。
- C 資料②からは、1938年にはユダヤ教会やユダヤ人が所有する商店へ放火が行われたが、犯人に対する官憲の取り締まりが厳しく行われたことが読み取れる。

- (ア) A - 正 B - 誤 C - 正
- (イ) A - 誤 B - 正 C - 正
- (ウ) A - 正 B - 正 C - 誤
- (エ) A - 誤 B - 正 C - 誤

設問7 下線部(6)にあるように、ソ連指導部はドイツの侵攻を予期しなかったため、初戦でドイツに攻め込まれることになった。A - 当時のソ連の指導者と、B - ソ連がドイツの侵攻を予期できなかった理由の組み合わせとして、正しいものを以下の中から選びなさい。

- (ア) A - レーニン
B - ラパロ条約を結んで軍事協力を進めていたから
- (イ) A - レーニン
B - 独ソ不可侵条約を結んでいたから
- (ウ) A - スターリン
B - ラパロ条約を結んで軍事協力を進めていたから
- (エ) A - スターリン
B - 独ソ不可侵条約を結んでいたから

1

設問 1	(A)	班固						
設問 2	①	<input type="radio"/>	<input type="radio"/>	<input checked="" type="radio"/>	<input type="radio"/>			
	②	<input checked="" type="radio"/>	<input type="radio"/>	<input type="radio"/>	<input type="radio"/>			
	③	<input type="radio"/>	<input checked="" type="radio"/>	<input type="radio"/>	<input type="radio"/>			
	④	<input checked="" type="radio"/>	<input type="radio"/>	<input type="radio"/>	<input type="radio"/>			
設問 3		<input type="radio"/>	<input type="radio"/>	<input type="radio"/>	<input checked="" type="radio"/>			
設問 4		<input type="radio"/>	<input checked="" type="radio"/>	<input type="radio"/>	<input type="radio"/>			
設問 5		<input type="radio"/>	<input type="radio"/>	<input type="radio"/>	<input checked="" type="radio"/>			
設問 6		<input checked="" type="radio"/>	<input type="radio"/>	<input type="radio"/>	<input type="radio"/>			
設問 7		<input type="radio"/>	<input type="radio"/>	<input type="radio"/>	<input type="radio"/>	<input type="radio"/>	<input checked="" type="radio"/>	<input checked="" type="radio"/>
設問 8		<input type="radio"/>	<input type="radio"/>	<input checked="" type="radio"/>	<input type="radio"/>			

24点

2

設問 1	(A)	クー=クラックス=クラン			
設問 2	①	<input type="radio"/>	<input type="radio"/>	<input type="radio"/>	<input checked="" type="radio"/>
	②	<input checked="" type="radio"/>	<input type="radio"/>	<input type="radio"/>	<input type="radio"/>
	③	<input type="radio"/>	<input type="radio"/>	<input type="radio"/>	<input checked="" type="radio"/>
	④	<input checked="" type="radio"/>	<input type="radio"/>	<input type="radio"/>	<input type="radio"/>
	⑤	<input type="radio"/>	<input checked="" type="radio"/>	<input type="radio"/>	<input type="radio"/>
設問 3		<input type="radio"/>	<input type="radio"/>	<input checked="" type="radio"/>	<input type="radio"/>
設問 4		<input type="radio"/>	<input type="radio"/>	<input checked="" type="radio"/>	<input type="radio"/>
設問 5		<input type="radio"/>	<input type="radio"/>	<input type="radio"/>	<input checked="" type="radio"/>
設問 6		<input type="radio"/>	<input checked="" type="radio"/>	<input type="radio"/>	<input type="radio"/>
設問 7		<input checked="" type="radio"/>	<input type="radio"/>	<input type="radio"/>	<input type="radio"/>
設問 8		<input type="radio"/>	<input checked="" type="radio"/>	<input type="radio"/>	<input type="radio"/>

26点

3

設問 1	(A)	プロノイア制			
設問 2	①	<input type="radio"/>	<input type="radio"/>	<input checked="" type="radio"/>	<input type="radio"/>
	②	<input type="radio"/>	<input type="radio"/>	<input checked="" type="radio"/>	<input type="radio"/>
	③	<input type="radio"/>	<input type="radio"/>	<input type="radio"/>	<input checked="" type="radio"/>
	④	<input type="radio"/>	<input checked="" type="radio"/>	<input type="radio"/>	<input type="radio"/>
	⑤	<input type="radio"/>	<input checked="" type="radio"/>	<input type="radio"/>	<input type="radio"/>
設問 3		<input type="radio"/>	<input type="radio"/>	<input checked="" type="radio"/>	<input type="radio"/>
設問 4		<input checked="" type="radio"/>	<input type="radio"/>	<input type="radio"/>	<input type="radio"/>
設問 5		<input checked="" type="radio"/>	<input type="radio"/>	<input checked="" type="radio"/>	<input type="radio"/>
設問 6		<input checked="" type="radio"/>	<input type="radio"/>	<input type="radio"/>	<input type="radio"/>
設問 7		<input type="radio"/>	<input checked="" type="radio"/>	<input type="radio"/>	<input type="radio"/>

24点

4

設問 1	①	<input type="radio"/>	<input type="radio"/>	<input checked="" type="radio"/>	<input type="radio"/>			
	②	<input type="radio"/>	<input type="radio"/>	<input type="radio"/>	<input checked="" type="radio"/>			
	③	<input checked="" type="radio"/>	<input type="radio"/>	<input type="radio"/>	<input type="radio"/>			
	④	<input type="radio"/>	<input checked="" type="radio"/>	<input type="radio"/>	<input type="radio"/>			
設問 2		<input type="radio"/>	<input type="radio"/>	<input checked="" type="radio"/>	<input type="radio"/>			
設問 3		<input type="radio"/>	<input checked="" type="radio"/>	<input type="radio"/>	<input type="radio"/>	<input type="radio"/>	<input checked="" type="radio"/>	<input checked="" type="radio"/>
設問 4		<input checked="" type="radio"/>	<input type="radio"/>	<input type="radio"/>				
設問 5		<input checked="" type="radio"/>	<input type="radio"/>	<input type="radio"/>	<input type="radio"/>			
設問 6		<input type="radio"/>	<input type="radio"/>	<input checked="" type="radio"/>	<input type="radio"/>			
設問 7		<input type="radio"/>	<input type="radio"/>	<input type="radio"/>	<input checked="" type="radio"/>			

26点